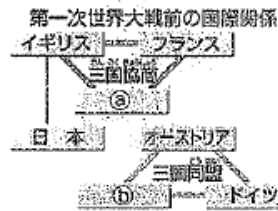


1 次の問いに答えなさい。

年代	できごと
1912	第一次 (a) が起こる
1914	第一次世界大戦が始まる・・・A
1916	(b) が民本主義を主張する
1918	米騒動により寺内正毅内閣が退陣する (c) が政党内閣を組織する
1919	中国で (d) が起こる・・・B
1920	国際連盟が成立する・・・C
1924	第二次 (a) が起こる
1925	(e) が制定される・・・D

資料 I



問1 上の年表中の (a) ~ (e) にあてはまる語句や人物名を、次から選んで書きなさい。

- 桂太郎 吉野作造 普通選挙法 五・四運動
原敬 幸徳秋水 護国運動 三・一独立運動

問2 資料 I は、A の戦争の頃の国際関係をあらわしています。図中の (a) ・ (b) にあてはまる国名を書きなさい。

問3 日本が第一次世界大戦に参戦した理由を説明しなさい。

問4 A の戦争が起こる前から、列強の利害と民族、宗教の対立がからまって紛争が絶えず「ヨーロッパの火薬庫」と呼ばれていた場所を次から選びなさい。

- イペリア半島 イタリア半島 バルカン半島 スカンディナヴィア半島

問5 B と同じ年に、パリで結ばれた第一次世界大戦の講和条約を何といいますか

問6 C の設立を提案したアメリカ大統領は誰ですか。

A

- 中国政府は、ドイツが山東省に持っているいっさいの権益を日本に移す。
- 日本の権益、次遷の地帯の期間、青島州接領の権限を99年間延長する。
- 中法銀行は、青島州・東鎮内港に於ける鉄山の所有権を日本國民にわたせる。

B

C

問7 資料 A は、第一次世界大戦中に日本が中国に認めさせた要求の一部です。これを何といいますか。

問8 資料 B は、有権者数の増加を表しています。1925年の有権者の割合が増えた理由は、年表中のDが関係しています。有権者が増えた理由を書きなさい。

問9 資料Cの人物は非暴力・不服従を唱え、インドの独立を指導しました。この人物は誰ですか。

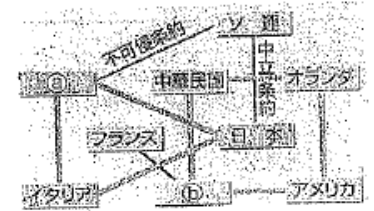
問10 年表中下線部の米騒動についてのべた下の文中の () にあてはまる語句を書きなさい。
1917年に起こった (①) に干渉するため、日本や列強は (②) を行った。
(②) をきっかけとした米の買いしめから、米の値段がおおはばに上がったため、米の安売りを求める米運動が富山県から起こった。

2 次の問いに答えなさい。

資料 I

戦争	年代	きっかけ
A	1931	柳条湖で日本軍が満鉄の線路を爆破
B	1937	盧溝橋事件
C	1939	ドイツがポーランドに侵襲
D	1941	日本軍が英領滿を奇襲攻撃 日本軍のマレー半島上陸

資料 II



問1 資料 I 中の A ~ D にあてはまる戦争名を選んで書きなさい。

- 第二次世界大戦 日中戦争 太平洋戦争 満州事変

問2 中国の訴えで国際連盟がリットン調査団を派遣して調査したのは、資料 I 中の A ~ D のうちのどの戦争になりますか。一つ選んで記号を書きなさい。

A

B

問3 資料 A は、国際連盟を脱退したことを報じています。脱退した理由を書きなさい。

問4 資料 B は、五・一五事件を報じています。写真の首相は誰ですか。また、この事件と二・二六事件によって日本の政治体制はどのように変化しましたか。「軍部」という言葉を使い、説明しなさい。

問5 資料 II は、表のDの戦争をめぐる国際関係を表しています。 (a) ・ (b) にあてはまる国名を書きなさい。

問6 日本・イタリア・ (a) の国々を連合国に対して何といいますか。

問7 右の資料は、世界恐慌に対する各国の対策である。A、B の政策を何といいますか。

問8 C、D あてはまる人物名を次から選んで書きなさい。

- スターリン ヒトラー
ムッソリーニ ルーズベルト

問9 E にあてはまる、国民社会主義ドイツ労働者党の略称を書きなさい。

問10 世界恐慌後のイタリアやドイツなどに生まれた、民主主義や自由主義を否定する全体主義の体制を何といいますか。

アメリカ	(A) ... 国民の購買力を高める
イギリス	(B) ... 植民地と密接な関係
フランス	(C) ... ファシスト党
イタリア	(D) ... (E)
日本	(F) ... 中国を侵略

3 次の問いに答えなさい。

A



B



C

大日本帝国憲法		(A)
1889年2月11日	発布 公布	1946年11月3日
君主が定める君主憲法		国民が定める民権憲法
天皇主権	主権	国民主権
憲法の範囲内で認められる	人権	(B)の尊重
天皇の親政権など	軍隊	(C) [戦争放棄]

- 問1 上の資料Aは、1945年9月27日の写真である。昭和天皇と並んで立っているXの人物は誰ですか。また、この人物を最高司令官として日本の占領政策の中心的な役割をはたした組織を、アルファベットで書きなさい。
- 問2 資料Cは、2つの憲法の比較である。表中のA、B、Cにあてはまる語句を書きなさい。
- 問3 右の資料で、小作地の割合がおおぼに減少した理由を【農地改革、小作人】という2つの語句を使って説明しなさい。
- 問4 資料Bは、日本が1951年に48か国と講和条約に調印するようすです。日本の首席全権だった首相を選んで書きなさい。



鳩山一郎 佐藤栄作 岸 信介 吉田 茂

- 問5 問4の講和条約名を書きなさい。
- 問6 第二次世界大戦後、右の地図中のAの国を中心とする資本主義陣営と、Bの国が率いる共産主義陣営が厳しく対立しました。




- ① A・Bの国名を書きなさい。
- ② この対立を何といいますか。
- 問7 1949年に成立したCの国の初代の首魁は誰ですか。
- 問8 1950年から始まった朝鮮戦争で対立したD・Eの国名を書きなさい。
- 問9 問9の戦争が日本に与えた影響として正しくないものを1つ選んで書きなさい。
ア: 問9の戦争では日本本土や沖縄のアメリカ軍基地が使用された。
イ: 問9の戦争に必要な大量の軍需物資が日本で調達された。
ウ: 問9の戦争のため日本経済は好景気をとった。
エ: 問9の戦争のため経済復興が遅くなった。
- 問10 1955年ころから1970年代の前半にかけて、年平均10%程度の経済成長が続いたことを何といいますか。

4 次の問いに答えなさい。

A

1960	(①)条約の改定案に調印する
1964	東京オリンピックが開かれる
1965	(②)条約が結ばれる
1970	大阪で万国博覧会が開かれる
1972	(③)が日本に復帰する
1972	(④)声明が出される
1973	(⑤)がおこる
1978	(⑥)条約が結ばれる
1993	「非自民連立」内閣が成立する
1995	阪神・淡路大震災がおこる



- 問1 上の年表中の①～⑥にあてはまる語句を、下の語群から選んで答えなさい。
- 沖縄 石油危機 B中共同 日韓基本
小笠原諸島 ドル・ショック 日米安全保障 日中平和友好
- 問2 日本がとっている、核兵器を「持たず、つくらず、持ちこませず」という原則を何といいますか。
- 問3 資料Aは、1960年の条約改定に反対するデモのようすです。このときの首相は誰ですか。次から選びなさい。


池田勇人 岸 信介 田中角栄 小淵恵三

- 問4 右のAの写真は、1989年に米ソの首脳がマルク島で会談した時のようすです。この時のソ連の共産党書記長は誰ですか。

A



B



- 問5 右のBは1989年にドイツで起きたできごとです。ある都市を東西に分けていた壁が崩壊したようすをあらわしています。この都市を答えなさい。
- 問6 次の文の()にあてはまる語句を書きなさい。
ソ連の崩壊後、世界では国際協調の動きが強まりました。
1975年に始まった(①)も国際協調に重要な役割を果たしています。
また、地産総合も進んでいます。1993年、ECは、域内の市場の統合を完成させたうえで、(②)に発展した。

- 問7 日本が迎えた少子高齢社会とはどんな社会ですか。説明しなさい。

西2点



・日 1点 24点? 24
 その他 2点 38点 76

3年社会 (前期中間試験) 解答用紙

組	番	名前
---	---	----

得点	
----	--

I 26	問1 a	護憲運動	問1 b	吉野作造	問1 c	原 敬
	問2 d	五・四運動	問2 e	普通選挙法	問2 人物	ロシヤ
	問3 略	イタリア	問3	日英同盟を結んでから		
	問4	バルカン半島	問5	ベルサイユ条約	問6	ウィルソン大統領
	問7	二十一ヶ条の要求	問8	満25歳以上のすべての男子に選挙権が与えられたから		
	問9	ガンディー	問10 ①	日印革命	問10 ②	シベリア出兵
	問1	A 満州事変	問2 B	日中戦争	問2 C	第二次世界大戦
	問3	D 太平洋戦争	問4	A		
	問5	満州国が認めらる、撤兵を求められたから				
2	問4 略	犬養毅	問5 略	軍部の政治的発言力が強まった		
	問5 a	ドイツ	問5 b	イギリス	問6	枢軸国
	問7 A	ニューディール政策	問8 B	ブロッケ経済	問8 C	ムッソリーニ
	問9 D	ヒトラー	問10	ナチ	問10	ファシズム

3 30 4 18	問1 X	ムッカーサー	問1 略	G H Q	問2 A	日本国憲法
	問2 B	基本的人権	問2 略	C 平和主義		
	問3	農地改革で、小作地は政府に買上げられて、小作りに売				
	問4	吉田茂	問5	サンフランシスコ平和条約	問6 A	アメリカ
	問7 B	ソビエト連邦	問7 ②	冷戦戦争(冷)	問7	毛沢東
	問8 D	朝鮮民主主義人民共和国	問8 略	E 大韓民国	問9	工
	問10	高度経済成長				
	問1	① 日米安全保障	問1 ②	日韓基本	問1 ③	沖縄
	問2	④ 日中共同	問2 ⑤	石油危機	問2 ⑥	日中平和友好
	問3	非核三原則	問3	岸信介	問4	エルセー7
問5	ベルリン	問6 ①	主要国首脳会議	問6 ②	E V	
問7	総人口の少い国の割合が小さく、高齢者の割合が大きい					