

1 次の明治維新の三大改革についての文を読み、あとの問題に答えなさい。

新政府は、欧米の強国に対抗するために、a経済を発展させて国力をつけ、軍備を強化することをめざした政策を進めた。なかでも学制、b兵制、c税制に関する改革は近代化の基礎となり、国民の生活に大きな影響を与えた。

- (1) 新しい国づくりのための下線部aの政策を何というか、書きなさい。
- (2) 文中の下線部bについて、1873年に徴兵令が出された結果、兵役の義務を負うことになったのはどのような人々か、次から選び、記号で答えなさい。
 ア 平民で、満20歳に達した男子
 イ 士族・平民にかかわらず、満20歳に達した男子
 エ 平民で、満25歳に達した男子
 ウ 士族・平民にかかわらず、満25歳に達した男子



- (3) 文中の下線部cについて、右の資料は、この改革を行ったときに土地所有者に渡された地券である。この改革を何というか、書きなさい。また、この改革は、江戸時代の税制とどう違うかを簡単に説明しなさい。

2 下の年表は、自由民権運動から国会開設までの動きをまとめたものです。これを見て後の問題に答えなさい。

国会開設への動き	
1874	板垣退助ら民権議院設立建白書を提出
1880	国会期成同盟結成
1881	国会開設の勸諭 板垣退助が(①)を結成 大隈重信が(②)を結成 伊藤博文が憲法調査のため渡欧
1882	福島事件
1884	秩父事件
1885	内閣制度ができる
1889	大日本帝国憲法公布 A
1890	第一回衆議院議員選挙 B

- (1) 自由民権運動とは、何をめざした運動か、次のア～エより、正しいものを選び、記号で答えなさい。
 ア 国民の自由権を確立することをめざした運動
 イ 国民の平等権を確立することをめざした運動
 ウ 国民の参政権を確立することをめざした運動
 エ 国民の行政権を確立することをめざした運動

- (2) 年表中の①、②に適する語句を、下の語群より選び、書きなさい。

自由民主党 立憲改進黨
 民主党 自由党

- (3) 年表中のAについて、次の資料は大日本帝国憲法の一部です。資料中の(a)に共通する語句を書きなさい。

第1条 大日本帝国ハ万世一系ノ(a)之ヲ統治ス
 第11条 (a)ハ陸海軍ヲ統帥ス
 第20条 日本臣民ハ法律ノ定ムル所ニ従ヒ兵役ノ義務ヲ有ス

- (4) 年表中Bについて、このとき選挙権を与えられたのは、どのような人か。次の①～③の項目に関することを必ず入れて書きなさい。

(① 国税 ② 年齢 ③ 性別)

3 次の文を読んで、後の問題に答えなさい。

政府は、近代産業を育てることをめざした(①)を進めた。群馬県東部のa富岡製糸場などの(②)をつくったり、博覧会を開いたりして新技術の開発と普及をはかった。経済の発展に欠かせない交通・通信部門の整備も進められた。1872年には新橋・横浜間に(③)が開通した。また、通信では、飛脚に変わる近代的な(④)や電報網が整えられた。

- (1) 文中の(①)～(④)に適する語句を、下の語群より選び、記号で答えなさい。

ア 官営模範工場 イ 鉄道 ウ 殖産興業 エ 郵便制度

- (2) 文中の下線部aについて、この製糸場の建設をはじめ、多くの企業設立し、経済の発展に力を尽くした深谷市出身の人物は誰か、人名を答えなさい。

4 下の年表を見て、後の問題に答えなさい。

年代	おもなできごと
1894	・日清戦争が始まる
1895	・下関条約が結ばれる ----- (A) ・「三国干渉」を受け入れる
1901	・八幡製鉄所が操業を開始する
1902	・日英同盟が結ばれる ----- (B)
1904	・日露戦争が始まる
1905	・ポーツマス条約が結ばれる ----- (C)
1910	・韓国を併合する
1911	・中国で辛亥革命が起こる

(1) 年表中の(A)～(C)のできごとに最も関係の深いものを下のア～ウから選び、それぞれ記号で答えなさい。

ア 第一条 日英両国は、たがいに清国と韓国の独立を認めているので、清国も韓国も侵略されることはない。-- (略) --- 別国の侵略によってその利益がそこなわれる場合、日英はそれを守るために必要な措置をとる。(部分要約)

イ ① 朝鮮の独立を認める。
② 日本に遼東半島・台湾・澎湖諸島をゆずる。
③ 日本に賠償金2億両を支払う。

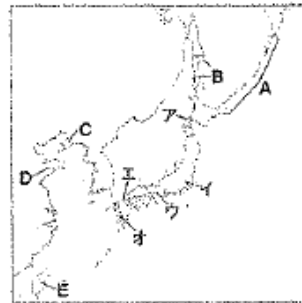
ウ ① 韓国における日本の優越権を認める。
② 旅順・大連の租借権、長春以南の鉄道利権を日本にゆずる。
③ 北緯50度以南の樺太を日本にゆずる。(部分要約)

(2) 右の地図を見て、後の問題に答えなさい。

① 日清戦争の講和条約が結ばれた都市を右の地図中のア～オから選び、記号で答えなさい。

② 年表中のできごとで、三国干渉によって、日本が清に返還した地域を、右の地図中のA～Eから選び、記号で答えなさい。また、この半島名を書きなさい。

③ 日露戦争の講和条約で日本が獲得した領土を右の地図中のA～Eから選び、記号で答えなさい。



(3) 年表中の辛亥革命についての下の文を読み、問題に答えなさい。

1911年、長江上流域で起きた民衆の反政府運動に応じて武昌(武漢)で軍隊が反乱を起こすと、革命運動は全国に広がり、多くの省が独立を宣言した。翌年、各省の代表者から支持されて孫文が臨時大總統となり、南京を首都とするアジアで最初の共和国が建国された。

問題 この国を何というか、国名を書きなさい。

5 右の地図を見て、問題に答えなさい。

(1) 1914年、バルカン半島にある都市(地図中の☆印)でオーストリアの皇太子夫妻が、セルビアの一青年に暗殺された。これをきっかけにして第一次世界大戦が始まった。この事件が起こった都市名を書きなさい。

(2) 第一次世界大戦で地図中のAの国と同じ側にとって参戦した国を、地図中のア～エから1つ選び、その記号と国名を答えなさい。

(3) 日本が連合国側にとって参戦した理由を書きなさい。

(4) 第一次世界大戦は、世界で1,500万人以上の犠牲者を出した。なぜ多くの人が犠牲者になったか、その理由を書きなさい。

(5) 地図中のAの国では、1917年に革命が起きた。その結果、世界最初の社会主義政府が成立したが、労働者と兵士の代表会議を何というか、答えなさい。また、この革命を指導した人物の名前を書きなさい。

(6) 第一次世界大戦後、講和会議が開かれた都市を、地図中の㉑～㉓から一つ選び、記号で答えなさい。またこのとき結ばれた、ドイツに巨額の賠償金や軍備縮小を押しつけた条約を何というか、書きなさい。

(7) 1920年、アメリカ大統領ウィルソンの提案により国際連盟が誕生した。このウィルソンが以前から唱えていた「どの民族も他国の指図や口出しを受けなくて、自分の国のあり方を自主的に決める権利がある」とする考えを何というか、漢字4文字で書きなさい。

(8) 国際連盟の本部がおかれた都市を地図中の㉔～㉖から一つ選び、記号で答えなさい。またこの機関の本部で、事務局次長として活躍した日本人は誰か、人名を答えなさい。

(9) 第一次世界大戦後のドイツでは、主権在民、20歳以上の男女の普通選挙権や労働者の団結権などを実現させた憲法が制定された。この憲法を何というか、答えなさい。

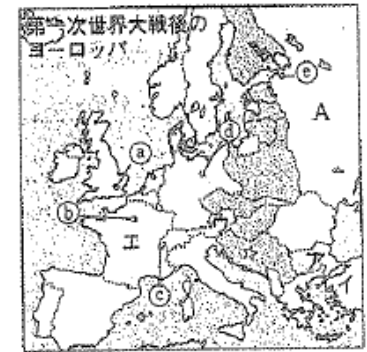
(10) 1921年から翌年にかけて、アメリカのよびかけで、ワシントン会議が開かれた。この会議で話し合われたことで、誤っているものを次から選び、記号で答えなさい。

ア 日本は、山東省の権益を中国に返すことが決められた。

イ 太平洋地域の現状維持、中国の独立と領土の保全が決められた。

ウ 日本は、海軍の軍備が縮小された。

エ 日本は、山東省のドイツ権益を引きつぐことが認められた。



6 次のA～Dの文は年代順に並んでいます。この文を読んで、後の問題に答えなさい。

A 日本は、連合国側にとって参戦し、欧米列強のアジアへの関心がうすれたのを機に、中国に山東省のドイツ権益の継承や、旅順・大連の租借期間の延長などを認めさせた。これを(①)という。

B 1918年、ロシア革命の影響をおそれに行ったシベリア出兵による米の買い占めから米価が急に上がったために、(②)と呼ばれる民衆の全国的な運動が起こった。

C それまでの内閣は倒れ、代わって平民出身で立憲政友会総裁の原敬が総理大臣となり、大部分の大臣を政友会議員で組織する本格的な(③)内閣が成立した。

D 日本の植民地支配のもとに置かれていた朝鮮では、ソウルで日本からの独立を宣言する文章を発表し、人々は「独立万歳」をさげんでデモ行進を行った。これをきっかけに独立運動は朝鮮全土に広がった。これを(④)という。

(1) 文中の①～④に適する語句を、下の語群より選び、それぞれ答えなさい。

政党 米騒動 護憲運動 三・一独立運動 民本主義 二十一か条の要求

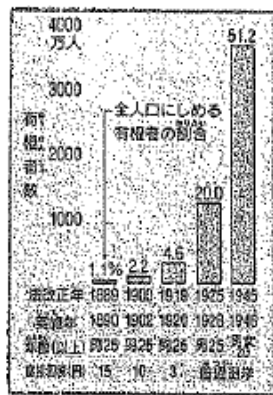
(2) Dの文について、この後、パリ講和会議で山東省のドイツ権益を日本が引きつぐことが認められると、1919年の北京での学生集会をきっかけにして反日運動や反帝国主義運動が広がった。この中国での民族運動を何というか、書きなさい。

7 資料を見て、後の問題に答えなさい。

(1) 1925年の法改正以前の有権者の最低年齢も1925年と同じ「男25歳」だが、なぜ、1925年の法改正で有権者の割合が大幅に増えたのか、説明しなさい。

(2) (1)の選挙法と同時に制定された、共産主義を取りしめるための法律を何というか、答えなさい。

(3) 大正時代から昭和時代初期にかけての人々の生活や文化で、正しくないものを次のア～エから1つ選び、記号で答えなさい。



- ア ラジオ放送が始まり、スポーツや映画などの娯楽もさかんにになった。
- イ ランプやガス灯などが急速に普及し、人力車や鉄道馬車も街にみられるようになった。
- ウ 女性が社会進出し、教師やバスの車掌などの職業につく女性が増えた。
- エ 文学では、志賀直哉や武者小路実篤らがすぐれた作品を発表した。

8 次の年表を見て、後の問題に答えなさい。

年代	おもなできごと
1929	世界恐慌が起こる
1931	満洲事象がおこる ----- a
1932	五・一五事件がおこる
1933	国際連盟を脱退する
1936	二・二六事件がおこる
1937	日中戦争がおこる
1938	()法が定められる
1940	大政翼賛会がつくられる

(1) 次のI～IVの文は、年表中のaのできごとのあと、世界のおもな国がとった政策である。文を読んで後の問題に答えなさい。

- I 独裁政治のもとで、エチオピアを併合するなど植民地を拡大した。
- II ナチスが政権をとり、再軍備を宣言し、東方に侵略した。
- III ニューディール政策をとり、公共事業・失業対策を行った。
- IV 外国製品の関税を高くして、本国とカナダ・オーストラリア・インドなどの貿易を拡大した。

① I～IVの政策をとった国を下の語群から選び、書きなさい。

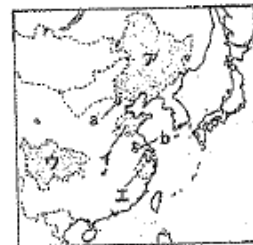
アメリカ イギリス ドイツ イタリア

② I・IIの国で行われた、反民主主義・反自由主義をかかげる全体主義の政治を何というか、書きなさい。

③ IIIの国で行われた政策を進めた大統領は誰か、人名を書きなさい。

④ IVの国で行われた政策を何というか、書きなさい。

(2) 年表中のaのできごとの後、1932年日本は、清朝最後の皇帝を元首とする「国」を中国につくった。この「国」の名称を書きなさい。また、この「国」の位置を、右の地図中ア～エから選び、記号で答えなさい。



(3) 年表中の()は、近衛文麿内閣によって公布された、国の産業や経済から、国民生活のすべてにわたって、戦争に動員できる権限を持った法律です。この法律名を書きなさい。

1	(1)	富国強兵	(5)	代表会議 ソビエト
	(2)	イ	人名 レーニン	
2	(3)	改革名 地租改正	(6)	記号 b
	(1)	説明 江戸時代の年貢は収穫高が基準で 税収が安定していなかったが、決ま 額のお金で納めさせ、財政が安定した。	条約名 ベルサイユ条約	
	(2)	ウ	(7)	民族自決
	(3)	a 天皇	記号 c 人名 新渡戸稲造	
3	(4)	国税を多く納める、満25歳以上の 男子	(9)	ワイマール憲法
	(1)	ウ	(10)	エ
	(2)	イ	① ② ③ ④	① ② ③ ④
	(3)	イ	(1)	① ② ③ ④
4	(1)	浪沢栄一	(2)	普通選挙法が制定され、直接国税での 納税条件がなくなったため。
	(2)	A	(2)	治安維持法
	(3)	B	(3)	イ
	(4)	C	(1)	I II III IV
5	(1)	ウ	(1)	イタリア
	(2)	イ	(2)	ドイツ
	(3)	エ	(3)	アメリカ
	(4)	エ	(4)	イギリス
6	(1)	ウ	(1)	フアシズム
	(2)	イ	(2)	ルーズベルト
	(3)	エ	(3)	ブロック経済
	(4)	エ	(4)	国の名称 満州国
7	(1)	浪沢栄一	(2)	国の位置 ア
	(2)	A	(3)	国家総動員法
	(3)	B		
	(4)	C		
8	(1)	ウ	(1)	イ
	(2)	イ	(2)	イ
	(3)	エ	(3)	イ
	(4)	エ	(4)	イ