

3年社会科中間テスト

1 下の資料を見て、各問いに答えなさい。

資料1 横浜上陸(1854年)



資料2

第二条 出島・蘭館の両港は、日本政府がアメリカ船の薪炭・食料・石炭など欠乏品の調達のために往来することを許すこと。
 第九条 日本政府は、アメリカ人に現在許していないことを他の外国に許すときは、アメリカ人にも同様に許すこと。(部分要約) (『幕末外国関係文書』)

資料3

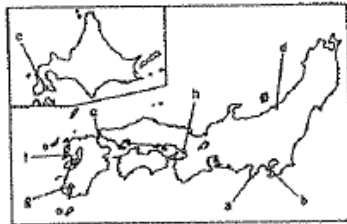
第四条 すべてのわが国に対する輸出入の商品は、別冊の貿易章程のとおり、日本へ関税を納めること。
 第六条 日本人に対して法を犯したアメリカ人は、アメリカ領事裁判所にて調べた上で、アメリカの法をもつて罰すること。アメリカ人に対して法を犯した日本人は、日本の役人が調べた上で、日本の法をもつて罰すること。(部分要約) (『幕末外国関係文書』)

(1) 資料1の前年に、日本に開国を求めてやって来た、アメリカ東インド艦隊司令長官の人名を答えなさい。1

(2) 資料2と資料3の条約名をそれぞれ書きなさい。2~3

(3) 資料2の条約で開かれた港を、下の地図より2つ選んで記号で答えなさい。4~5

(4) 資料3の条約には日本にとって不利な内容がありましたが、資料をもとに、その内容を2つあげなさい。6~7



(5) 開国後の日本の物価は、下のグラフのように急激に上昇するが、その理由としてあてはまらないものを、次のア~ウから1つ選びなさい。8

ア 綿製品が大量に輸入される一方で、輸出用の生糸が商人によって買い占められたため

イ 米や日常品の生産が増え、流通量が増加したため。

ウ 幕府が金の流出を防ぐために、粗悪な貨幣を造ったため。

(6) 全国で世直しの期待が高まる中で、将軍となった徳川慶喜は、政権を朝廷に返した。次の①~②の問いに答えなさい。9

①下線部のできごとを何といますか。9

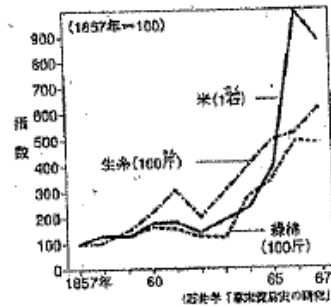
②次のア~エは、幕府が政権を朝廷に返すまでのおもなできごとです。年代の古い順に並びかえなさい。ただし、最も古いのはエです。10

ア 長州や薩摩藩が、外国の艦隊と戦い、大きな被害を受けた。

イ 長州と薩摩藩が、幕府を倒すための同盟を結んだ。

ウ 幕府が、外国との貿易を認める条約を結んだ。

エ 幕府が、外国船を見たら攻撃するよう命令を出した。



(7) (6)の①ののちにおこった、旧幕府軍が、鳥羽・伏見の戦いで新政府軍に敗れて以後、旧幕府軍が降伏するまで約1年半にわたり続いた一連の戦争を何といますか。11

2 資料1~5について、あとの各問に答えなさい。思考

資料1



資料2



資料3



資料4



(1) 資料1は西郷隆盛です。

①西郷隆盛らは、武力を用いてでも朝鮮を開国させるよう主張しました。これを何といますか。12

②1877年、西郷隆盛が中心になっておこした士族の反乱を何といますか。13

(2) 資料2は板垣退助です。

①板垣退助らが1874年に出した、国民が政治に参加できる道を開くことを求めた建白書を何といますか。14

②①で始まった、国民の意見を政治に反映させようとした運動を何といますか。15

(3) 資料3の大隈重信が結成した政党名を書きなさい。16

(4) 資料4は伊藤博文です。

①伊藤博文は1885年、何という役職に就任しましたか。17

②伊藤博文が中心になって、資料5の憲法を定めました。()に共通してあてはまる語句を書きなさい。18

③資料5が出された翌年、第1回衆議院議員選挙が行われた。このとき選挙権をあたえられたのはどのような人々か。書きなさい。19

資料5

第1条 大日本帝国八万世

一系ノ()之ヲ統治ス

第3条 ()ハ神聖ニシテ

侵スベカラズ

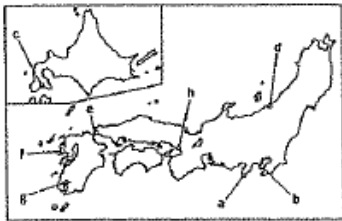
3 次の資料を見て、各問に答えなさい。 国

- 日清戦争は、朝鮮南部でおこった農民を中心とした蜂起をきっかけに日本と清が朝鮮に出兵して始まった。この蜂起を何といいますか。 20
- 資料1の条約名を書きなさい。 21
- 資料1の条約が結ばれた都市を右の地図Ⅰのa～hから選び、記号で書きなさい。 22
- 資料1の()にあてはまる国を(1)を参考にして書きなさい。 23
- 資料1の下線部の半島の場所を地図Ⅱのア～エから選び、記号で書きなさい。 24
- 下線部の半島をロシア・ドイツ・フランスが清に返すように要求してきました。これを何といいますか。 25

資料1 日清戦争の講和条約

第1条 清国は、()の完全な独立を認めること。
 第2条 清国は遼東半島、台湾を日本にゆずること。
 第3条 清国は、賠償金を日本に払うこと。

地図Ⅰ



地図Ⅱ



4 明治時代の新政府の政策について、以下のようなカードにまとめました。これを見て、各問いに答えなさい。 国

A 1868年に新政府が、世論を大切に政治を進めること、外国との交際を深めることなどを定めた方針。

B 1871年に新政府が、藩を廃止して県を置き、中央から府知事や県令(のちの知事)を派遣した政策。

C 1872年に定められた、6歳以上の男女すべてが小学校教育を受ける制度


D 1873年から、財政を安定させるために政府が行った政策

- A～Dは、それぞれ何について書かれているか答えなさい。 26～29
- Bの政策の前に、大名に対して土地と人民を政府に返させたことを何というか答えなさい。 30
- Dに関する次の資料1を見て、下の各問いに答えなさい。 31～32

資料1 地券

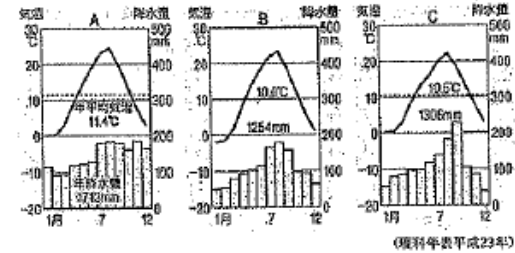
資料の地券に記されていることから、下から2つ選んで書きなさい。

- 石高 家族構成 男女の区別
- 地価 生年月日 土地の所有者



5 東北地方の自然や産業について、次の問いに答えなさい。 国

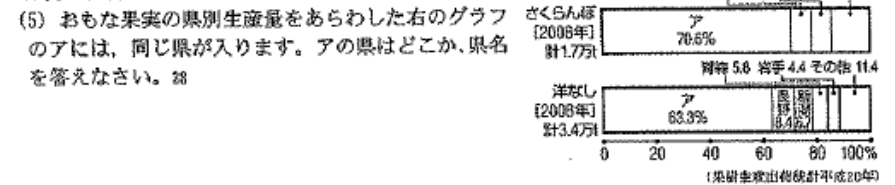
- 下の雨温図は、「秋田」「盛岡」「宮古」を示しています。A～Cの中から「秋田」のグラフを選び、記号で答えなさい。また、そのグラフを選んだ理由を説明しなさい。 33～34



- 東北地方の太平洋側では、夏に気温が上がらず、農業に被害をおよぼすことがあります。寒流の影響を受け、冷たく湿った北東風が吹くためです。この風の名を書きなさい。 35
- 東北地方の8県の中で、下の①～③の条件をすべて満たしている県はどこか、県名を答えなさい。 36

- ①県名と県庁所在地名が異なっている。
- ②東北地方で最大の面積を有している。
- ③2011年に世界遺産(文化遺産)に登録された平泉がある。

- 津軽平野を中心に栽培されている、青森県の生産量が全国第一位(2008年)の果物は何か、答えなさい。 37



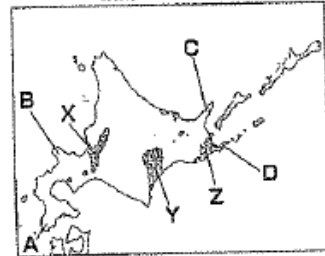
6 次の問いに答えなさい。

- 日本を7地方区分したとき、北海道地方が最も大きい(多い)ものを、次のア～エから1つ選びなさい。 39 国

ア 人口 イ 面積 ウ 商店年間販売額 エ 工業製品出荷額

- 2005年に世界自然遺産に登録された半島の位置を、地図中のA～Dから1つ選びなさい。 40 国
- Xの平野名を答えなさい。 41
- 次の文が示している地域を、地図中のX～Zから選び名前を書きなさい。 42

中心部は帯広市で、気温の低い地域に適した畑作がさかんな平野



7 次の資料1・2を見て、各問に答えなさい。 国

(1) 資料1は、東京および東京都心部への通勤・通学が多い4県(千葉・埼玉・神奈川・茨城)の昼間人口と夜間人口です。

- ① 東京の昼間人口と夜間人口の差は何人ですか。43
- ② Aにあてはまる県名を答えなさい。44
- ③ 昼間人口と夜間人口の差が最も少ないのはA～Dのうちどれですか。記号と県名を答えなさい。45

(2) 東京に集中する都市機能を分散するために建設された都市のうち、大学や研究機関が移転しているのはどこですか。次から選んで書きなさい。46


- 幕張新都心
- さいたま新都心
- 筑波研究学園都市

(3) 資料2は、東京都の工業生産の割合をあらわしています。印刷の工業生産額(億円)を算出する式を書きなさい。47

資料1 (2005年)

都府県	昼間人口 (万人)	夜間人口 (万人)
東京	1498	1242
A	791	875
B	534	603
C	616	704
D	287	293

(2010/11日本国勢調査)



8 地図を見て各問に答えなさい。48～50 国

- (1) ①～②の地形名を答えなさい。
- (2) 地図中の③の三陸海岸の南部にみられる出入りの多い海岸地形を何といいますか。



第3学年 中間テスト(社会)解着用紙

3年組 番氏名

33	34	35	36	37	38	39	40	41	42	43	44	45	46	47	48	49	50														
1	2	3	4	5	6	7	8	9	10	11	12	13	14	15	16	17	18	19	20	21	22	23	24	25	26	27	28	29	30	31	32
(1)	(2)	(3)	(4)	(5)	(6)	(7)	(1)	(2)	(3)	(4)	(1)	(2)	(3)	(4)	(5)	(6)	(1)	(2)	(3)	(4)	(5)	(6)	(1)	(2)	(3)	(4)	(5)	(6)	(1)	(2)	(3)
ペリー	資料2 日米和親条約	資料3 日米修好通商条約	C	a	a	領事裁判権を認める 関税自主権がない	イ	① 大政奉還	② 王→閣→アライ	戊辰戦争	① 征韓論	② 西南戦争	① 民権議院設立の建議	② 自由民権運動	立憲改進党	① 内閣総理大臣	② 天皇	③ 25才以上の男子で直接 国税と15円以上 納税した 者	甲午農民戦争	下関条約	朝鮮	① 三國干渉	A 五箇条の御誓文	B 鹿藩罷免	C 学制	D 地租改正	版籍奉還	地価	土地の所有者		
理由	冬に降水量が多いから	やませ	石川県	りんご	山形県	イ	イ	C	石狩平野	十勝平野	① 256万	② 神奈川県	③ 記号D 県名 岩手県	筑波研究学園都市	104819 x 0.151	① 奥羽山脈	② 利根川	③ ①-④ アス海岸													

得点 / 100点

歴史	48	134
地理	116	116

3年組 番氏名

歴史 64
地理 30