

社会科中間テスト (前期)

3年 組

歴史

【1】年表を見て、次の各問に答えなさい。

年代	おもなできごと
1912	第一次 (①) が起こる。
1914	(②) 皇太子が暗殺されたことをきっかけに (③) が始まる。
1915	X
1916	(④) が民本主義を主張する。…………… A
1917	ロシア革命が起こる。…………… B
1918	(⑤) が政党内閣を組織する。
＃	(⑥) が終わる。
1919	米の安売りを求める (⑦) が全国に広がる。
＃	パリで講和会議が開かれる。…………… C
＃	中国で (⑧) が起こる。
1920	Y
1921	ワシントン会議が開かれる。…………… D
1922	部落差別をなくすための組織である (⑨) が結成される。
1923	Z
1924	第二次 (①) が起こる。
1925	選挙法が改正される。…………… E
＃	(⑩) が制定される。※共産主義を取り締まる法律。

- 年表中の①～⑩にあてはまる語句を答えなさい。
- Aに関連して、日本国内に普通選挙を求める動きが広がり、民主主義や自由主義の風潮が高まりました。これを何と言いますか。
- Bの革命の結果、1922年に世界最初の社会主義国家が成立しました。この国の名前を正式名称で答えなさい。また、Bの革命を指導した人物の名前を答えなさい。
- Cの会議で、ドイツと連合国側が結んだ条約を何と言いますか。
- Dの会議で決められたことを、簡潔に書きなさい。
- Eについて、各問に答えなさい。
 - これによって選挙権を認められる条件はどのようになりましたか。具体的に書きなさい。
 - このような選挙を何と言いますか。
- 年表中のX・Y・Zにあてはまるできごとを、ア～エから選びなさい。

ア 国際連盟が発足する。	イ 関東大震災が起こる。
ウ 日中戦争が起こる。	エ 中国に対し、二十一か条の要求を出す。

【2】次の各問に答えなさい。


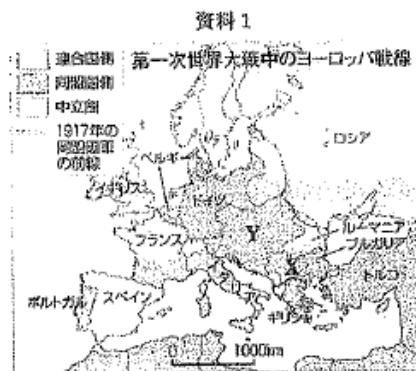
- 国際連盟のめざすことはなんですか。四字熟語で二つ答えなさい。
- 1919年に、ドイツでつくられた、主権在民・社会権などが定められた憲法名を答えなさい。
- 国際連盟を提案した人物は誰ですか。また、この人物が唱えた、各民族には、自分たちのことを自分たちで決める権利があるという考え方をなんといいますか。
- 大正時代に活発になった労働運動をはじめとするメーデーで集まった人々は、何を要求しましたか。2つの面から具体的に答えなさい。(各1点)
- 社会運動の広がりについて述べた次の文の()に当てはまる言葉を答えなさい。

女愛会は、日本労働総同盟へと発展し、労働者の団結と開放を主張して、労働運動を指導した。また、農村では、小作料の引き下げを要求する()がひんぱんに起こった。

- 社会運動の広がりの中で青鞥社を結成し、女性解放運動を進めた人物をフルネームで書きなさい。
- インドでは、「非暴力・不服従」を唱える人物を指導者として、イギリスからの独立を求める運動が広がりました。この人物の名前を答えなさい。
- 下の資料は、水平社宣言の部分要約です。(A)と(B)に当てはまる言葉を書きなさい。

全国に散在する部落の人々よ、団結せよ。ここにわれわれが人間を尊敬することによって、みずから解放しようとする運動を起こしたのは当然である。われわれは、心から人生の(A)と(B)を求めるものである。水平社はこうして生まれた。人の世に(A)あれ、人間に(B)あれ。

【3】資料を見て、後の各問に答えなさい。




- 「ヨーロッパの火薬庫」とよばれていた、資料1のXの半島を何と言いますか。
- 第一次世界大戦は、Yの皇太子夫妻が、セルビア人の青年に暗殺されたことから始まりました。Yの国のどこで暗殺されたのですか。
- 日本は連合国側に参戦しましたが、どの国と同盟を結んでいたからですか。その国を資料1から選んで書きなさい。
- 資料2は、第一次世界大戦で使用された兵器の1つです。何という兵器ですか。
- 資料2、資料3は、いずれも第一次世界大戦の様子を示しています。第一次世界大戦がどのような特色を持った戦争だったか、それぞれからわかることを書きなさい。

【4】年表を見て、後の各問に答えなさい。

年代	おもなできごと
1929	アメリカのウォール街で(①)の暴落がきっかけとなって(②)がおこる。・・・A
1931	関東軍が奉天郊外で満鉄の線路を爆破し、それを機に軍事行動を開始し、(③)が始まる。・・・B
1932	X
1933	ドイツにナチス政権が成立する。・・・C
#	日本が国際連盟を脱退する。
1936	Y
1937	(④)戦争が始まる。
1938	国家総動員法が公布される。・・・D

- 年表中の①～④にあてはまる語句を答えなさい。
- 年表中Aを乗り切るために、a アメリカがとった政策、b イギリスやフランスがとった政策をそれぞれ答えなさい。
- 年表中のX・Yにあてはまるできごとを、次から選んで記号で答えなさい。
 ア 三・一独立運動がおこる。
 イ 二・二六事件がおこる。
 ウ 五・四運動がおこる。
 エ 五・一五事件がおこる。
- 右の地図中のXは、Bのできごとの翌年に建国され、日本が実質的に支配した国です。
 この国の名を答えなさい。
- 右の写真は、1933年、日本の代表松岡洋右が国際連盟の本会議場で、総会の決議に抗議しているところです。
 なぜ、抗議しているのですか。具体的に書きなさい。
- Cのナチスを結成し、たくみに政権を握って独裁政治をおこなった人物は誰ですか。
- この当時、ドイツではある特定の人種の人々が迫害を受けました。ナチスによって、迫害を受けた人種を答えなさい。
- 日中戦争の原因となった事件の名称を答えなさい。
- 日本政府が年表中Dを行った目的を、「戦争」の語句を使って答えなさい。



【5】次の文にあてはまる人物を答えなさい。


- 「善の研究」で東洋と西洋の哲学を統一した哲学者。
- 「春の海」などを作曲した邦楽(華曲)家。
- 「この道」「赤とんぼ」を作曲し、職業としての管弦楽団を最初に組織した。
- 「羅正門」や「蜘蛛の糸」、「山椒太夫」、「杜子春」など知性的な作品で人々に新鮮な印象をえた。
- 国際連盟本部の事務局次長として活躍した。

【6】資料を参考にして、次の各問に答えなさい。


資料1



資料2



資料3



- 資料1は、ドイツがある国を攻撃している様子です。
 これをきっかけにして、第二次世界大戦が始まりました。ある国とはどこですか。
- このころ、日本はアジアを欧米からの支配から解放し、アジアの諸民族だけで栄えることを唱えていました。これを何といいますか。
- (2)のように、日本が東南アジアに進出した目的は何ですか。
 欧米の支配から解放すること以外に一つ、答えなさい。
- 資料2は8月6日に原子爆弾が投下された都市です。都市名を答えなさい。
- 資料3は、1941年12月8日、日本軍の真珠湾攻撃で炎上するアメリカの軍艦です。
 これにより、始まった戦争は何ですか。
- 第二次世界大戦は、日本がある宣言を受け入れて降伏することで終わりました。
 この宣言を何といいますか。
- 国民は、日本が降伏することを天皇のラジオ放送で知らされました。この放送が行われたのは、何年何月何日ですか。

社会科中間テスト（前期）

3年 組 番 []

歴史

	思判	技表	知理
【1】(1) ① 護憲運動			1
② オーストリア			1
③ 第一次世界大戦			1
④ 吉野作造			1
⑤ 原 敬			1
⑥ 米騒動			1
⑦ 五・四運動			1
⑧ 全国水平社			1
⑨ 治安維持法			1
(2) 大正デモクラシー	2		
(3) 国名 ソビエト社会主義共和国連邦	2		
人物 レーニン	2		
(4) ベルサイユ条約	2		
(5) 軍事力の制限・軍備の縮小	2		
(6) ① 満25才以上の男子	2		
② 普通選挙	2		
(7) X E		1	
Y A		1	
Z I		1	
【2】(1) 世界平和・国際協調	2		
(2) ワイマール憲法	1		
(3) 人物 ウィルソン	1		
考え方 民族自決	1		
(5) 8時間労働制	1		
最低賃金制	1		
(6) 小作争議	1		
(7) 平塚らいてう	2		
(8) ガンディー	2		
(9) A 熱 B 光		2	
【3】(1) パルカン半島		2	
(2) サラエボ		2	
(3) イギリス		2	
(4) 戦車		2	
(5) 資料2: (例)新兵器が使われた戦争だった。	2		
資料3: (例)女性も兵器工場で働くなど、国民全体を動員する総力戦だった。	2		
思判	技表	知理	

30 13 9

	思判	技表	知理
【4】(1) ① 株価			1
② 世界恐慌			1
③ 満州事変			1
④ 日中 戦争			1
(2) a ニューディール政策	2		
b ブロック経済	2		
(3) X E		2	
Y I		2	
(4) 満州国		2	
(5) (例) 総会が満州国の建國を認めず 日本軍の撤兵を求めたから。	2		
(6) ヒトラー		2	
(7) ユダヤ人		2	
(8) 盧溝橋事件		2	
(例) 国民を戦争に動員する 戦時体制を強めること。	2		
【5】(1) 西田幾多郎		2	
(2) 宮城道雄		2	
(3) 山田耕筰		2	
(4) 芥川龍之介		2	
(5) 新渡戸稲造		2	
(6) (1) ポーランド		2	
(2) 大東亜共栄圏		2	
(3) 東南アジアの資源を得るため。		2	
(4) 広島		2	
(5) 太平洋戦争		2	
(6) ポツダム宣言		2	
(7) '1945年8月15日		2	

思判	技表	知理
8	26	14

思判	技表	知理
38	39	23