

第3学年社会科 2学期中間テスト

・特別の場合を除き、すべて漢字で書きましょう。また、読みづらいひらがな・カタカナは残念ながら減点になります。ていねいに書いてミスを少なくしましょう。

※思考判断 ☆資料活用 の技能
他は知識理解の問題です。

組	番
---	---

【公民的分野】

1. 人権および日本国憲法について、資料を良く見て、下の間に答えなさい。

資料Ⅰ

年代	できごと
1689年	イギリスで権利の章典が出される。
1776年	アメリカで(A)が出される。
1789年	フランスで(B)が出される。
1919年	ドイツで(C)が制定される。

- (1) 資料Ⅰは、人権思想に関する年表です。年表中のA～Cに当てはまる語句を書きなさい。
 (2) 年表中A・Bを支えた思想家のうち、『法の精神』を著し三権分立を唱えた人物を書きなさい。

資料Ⅱ


<p>【日本国憲法(一部)】 1946年公布</p> <p>第1条 天皇は、日本国の(a)であり日本国民統合の(a)であって、この地位は、(b)の存する国民の総意に基く。</p> <p>第3条 天皇の国事に関するすべての行為には、内閣の助言と承認を必要とし、内閣が、その責任を負ふ。</p> <p>第4条 天皇は、この憲法の定める国事に関する行為のみを行ひ、(c)に関する権能を有しない。</p> <p>【 A 憲法】 1989年発布</p> <p>第1条 大日本帝国ハ万世一系ノ天皇之ヲ統治ス</p> <p>第3条 天皇ハ神聖ニシテ侵スベカラズ</p> <p>第4条 天皇ハ国ノ元首ニシテ統治権ヲ総覧シ此ノ憲法ノ条規ニヨリ之ヲ行フ</p>
--

- (3) 資料Ⅱのa～cに当てはまる語句を書きなさい。 ☆
 (4) 資料ⅡのAの憲法の名称を書きなさい。 ☆
 (5) 資料は、日本国憲法の基本原理の一つについてまとめたものです。Aの憲法と日本国憲法は、どう違うのか、憲法中の言葉を使って書きなさい。 ※


資料Ⅲ

<p>第(a)条</p> <p>①日本国民は正義と秩序を基調とする国際平和を誠実に希求し、国権の発動たる(b)と、武力による威嚇又は武力の行使は、国際紛争を解決する手段としては、永久にこれを放棄する。</p> <p>②前項の目的を達成するため、(c)その他の戦力は、これを保持しない。国の交戦権はこれを認めない。</p>
--

資料Ⅳ



資料Ⅴ



- (6) 資料Ⅳは、平和主義について書かれた条文です。(a)は、第何条か書きなさい。
 (7) 条文のb・cに当てはまる語句を書きなさい。 ☆
 (8) 資料Ⅳは、日本にあるアメリカ軍基地です。
 ①アメリカ軍基地は、何と言う条約に基づいて日本に駐留していますか、書きなさい。
 ②日本の中でもっともアメリカ軍基地が多い都道府県を書きなさい。
 (9) 資料Ⅴは、1945年に原爆を投下された広島の様子です。日本は唯一の被爆国として「非核三原則」を掲げています。どんな原則か、説明しなさい。

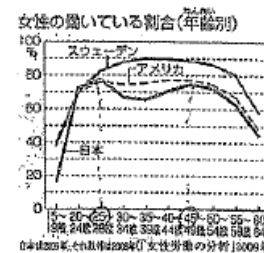
2. 「基本的人権」について、資料を見て、下の間に答えなさい。

資料Ⅰ

<p>憲法第14条に「すべて国民は(a)に平等であって、人種、信条、性別、社会的身分又は(b)により、政治的、経済的又は、社会的関係において、差別されない。」とあるが、現実には差別問題が残る。人々が共に助け合う社会をめざして、男女平等、障がい者への配慮や支援など、お互いを尊重することが大切である。</p>

- (1) 資料Ⅰのa・bに当てはまる語句を書きなさい。 ☆
 (2) 現実に残る差別問題への解決策として述べた文のうち、正しいものを一つ選び、記号を書きなさい。 ※
 ア 公務員の国籍条項を撤廃し、独自の文化や伝統の尊重に関する法を制定した。
 イ アイヌ民族への差別を無くすために、外国人を採用する地方公共団体が増えている。
 ウ 部落差別を無くすために、同和対策事業を進め、人権擁護の総合的な施策をとっている。

資料Ⅱ



- (3) 資料Ⅱは、日本の女性の労働の特徴が現れている。
 ① グラフを読み取り、特徴を説明しなさい。 ☆
 ② なぜ、①のような特徴が見られるのか、説明しなさい。 ※

資料Ⅲ

<p>第25条</p> <p>すべて国民は、健康で文化的な(a)を営む権利を有する。</p>
--

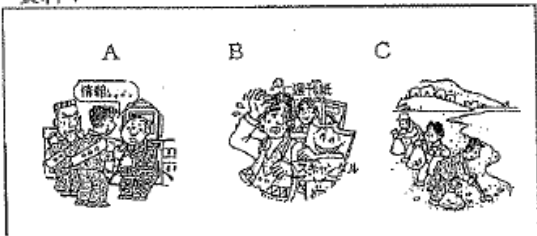
- (4) 資料Ⅲは、社会権のうち、もっとも重要な「生存権」について書かれたものです。
 ① 条文の(a)に当てはまる言葉を書きなさい。 ☆
 ② 社会権が生まれた背景を次の言葉を使って説明しなさい。(産業革命・労働者) ※

資料IV

- A 父は、仏教を信仰し、私は、キリスト教を信仰している。
- B 私は中学校で、妹は小学校で様々な教科を学習している。
- C 裁判所の令状なしに、家を検索してはいけない。
- D プロ野球の球団合併をめぐって、選手会がストライキを行った。
- E 実家は商店を営んでいるが、私は弁護士になりたい。
- F 叔父は、病気で働けなくなったが、国の制度によって生活に必要な費用が支給された。
- G 医者、無資格での営業はできない。

- (5) 資料IVのA～Fから「自由権」に当てはまるものを三つ選び、それぞれ「自由権」のどれに当てはまるか書きなさい。(精神の自由・身体の自由・経済活動の自由) ☆
- (6) A～Fから「社会権」に当てはまるものを三つ選び、それぞれ「社会権」の中のどれに当てはまるか書きなさい。(生存権・教育を受ける権利・勤労の権利・労働基本権) ☆
- (7) Gのように、人権には制限がある。共同生活のための制約だが、このような人権の限界を憲法では何と言うか、書きなさい。

資料V



- (8) 資料Vは、新しい人権に関するものです。それぞれどれに当てはまるか、書きなさい。 ☆
 [環境権 知る権利 プライバシーの権利]
- (9) 国民は国や地方公共団体に対して、知りたい情報を請求することができます。この制度を何と言うか書きなさい。

3. 資料を見て、下の問に答えなさい。

民主主義を進めていく上で重要なことは、主権者である (a) が積極的に政治に参加していくことです。政治参加の代表的なものは、b 国会議員などを選ぶ選挙です。選挙は、普通選挙など c 四つの原則のもとに行われ、選挙を通して国民の意思が政治に反映されます。選挙に関しては、d 国民が何を求めているか、政治に対してどんな意見を持っているかを知ることが重要であり、政党はこうした国民の意思を政治に実現しようとしています。

- (1) 文中の a に当てはまる語句を書きなさい。
- (2) 下線部 b について、国会議員のうち、衆議院議員の被選挙権は、何歳か、書きなさい。
- (3) 下線部 c について
 - ① 四つの原則のうち「平等選挙」に関して現在問題だとされる点があります。どんな点か書きなさい。 ※
 - ② 四つの原則のうち「直接選挙」は、自分で投票することですが、現在「若者の投票率が低い」ことが問題になっています。投票率が低いとなぜ問題なのか、説明しなさい。 ※
- (4) 下線部 d のような国民の意思を何と言うか、漢字 2 文字で書きなさい。
- (5) ここで取り上げられている「選挙」は、政治参加の大事な部分です。「選挙」以外の政治参加の方法を一つ書き、説明しなさい。 ※
- (6) 選挙に関して細かく決められている法律を何と言うか、書きなさい。

資料 I



資料 II

2009年衆議院選挙での民主党			
小選挙区制		比例代表制	
得票数	議席数	得票数	議席数
334万票(4.4%)	21議席(1.7%)	299万票(4.4%)	27議席(4.3%)

2009年衆議院選挙での自由民主党			
小選挙区制		比例代表制	
得票数	議席数	得票数	議席数
2730万票(81.7%)	54議席(12.3%)	182万票(2.7%)	15議席(3.0%)

- (7) 資料 I の X のように政権を担当する政党を何と言うか、書きなさい。
- (8) 資料 II は、衆議院議員選挙の結果を示したものです。資料をよく見て、正しくないものを二つ選びなさい。 ※

- ア 小選挙区制は、少数意見を反映しやすい制度である。
- イ 小選挙区選挙では、わずかな得票率の違いで、議席数に大きな差が出る。
- ウ 比例代表制度では得票率と議席数に、大きな差が出る。
- エ 民主党が 3 分の 2 近い議席を獲得したのは、小選挙区制によるところが大きい。

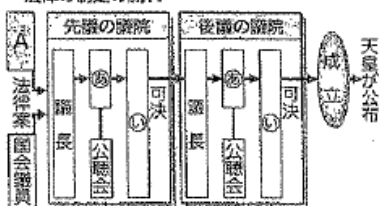
4. 国会について、下の問に答えなさい。

第 41 条

国会は、国権の最高機関であつて、国の唯一の (a) である。

- (1) 国会について書かれた、条文の (a) に当てはまる言葉を書きなさい。 ☆
- (2) 国会の種類のうち、総選挙ののち開かれる国会を何と言うか書きなさい。

●法律の制定の流れ



- (3) 法律の制定の流れを示した左の図中 A・あ・い に当てはまる語句を書きなさい。 ☆
- (4) 国会の意志決定をしやすくするために「衆議院の優越」が認められています。その理由を次の言葉を使って、説明しなさい。 [選挙] ※

以上で問題は、終わりです。

- ・問題をもう一度読み直し、問題用紙に書くなど、見直しをていねいにしましょう。
- ・解答は、わかりやすく大きな文字でお願いします。

・テスト返しの時、絶対に、この問題用紙を忘れることのないように・・・

第3学年社会科 2学期 中間テスト解答用紙

【公民的分野】

(1)	A (アメリカ) 独立宣言	B (フランス) 人権宣言	C ワイマール憲法
(2)	モンテスキュー		
(3) ☆	a 象徴	b 主権	c 国政
(4) ☆	大日本帝国 憲法		1889年発布です。きつがえした。こぼるこい。
(5) ※	三原則の1つ... こぼるこい。ここで書かれているのは、「国民主権」についてです。日本国憲法では主権は国民にあるが、大日本帝国憲法では主権を天皇が持っている。		
(6)	a 第9条	(7) ☆ 戦争	c 陸海空軍
(8)	① 日米安全保障条約	② 沖縄県	
(9)	核兵器を「持たず、作らず、持ち込ませず」という、非核・反核の宣言です。		

こいが必要

政治△おぼい!

(1) ☆	a 法の下	b 門地	(2) ※ ウ
(3)	① ☆ スウェーデン・アメリカの女性に比べ、日本の女性は、25歳から45歳までの年齢層の働く割合が減っている。(仕事を辞めている) 女性の働く割合、主権の目撃し。		
	② ※ 子どもが小さいときは、子育てに専念するために仕事を辞めているから。また、子育てしながら働ける環境(保育施設や考え方も)が整っていないとも言える。2点書けたいハナレ!		
(4)	① ☆ 最低限度の生活		
	② ※ 産業革命の頃、労働者は、長時間労働・低賃金の生活で「人間らしい生活」からほど遠かった。そこで、人は誰でも生活を保障され心豊かに安心して「人間らしく生きる権利」としての「社会権」の考えかたが生まれた。社会権がどの権利かわかる記述を!		
(5) ☆	A 精神の自由	C 身体の自由	E 経済活動の自由
(6) ☆	B 教育を受ける権利	D 労働基本権	F 生存権

・ Gは、この範囲でなし。よく読む。(線は書きかたで?)
 ・ A... からの場合で書けるようにする!

(7)	公共の福祉		
2 (8) ☆	A 知る権利	B プライバシーの権利	C 環境権
(9)	情報公開制度		

(1)	a 国民	(2)	25 歳
(3) ※	① 選挙区の有権者数に差があることから、「平等選挙」に反するという「一票の格差」という問題がある。10.18.新聞の一面トップでしゅ?		② 投票に行かない(棄権)すること、主権者としての勤めを放棄することとともに、少ない投票で国の政治が決まってしまうことになり、国民の意思が反映していかない。
(4)	世論	(5) ※	請願権としての署名を集め提出することやデモ行進
(6)	公職選挙法		
(7)	与党	(8) ※	ア ウ

小選挙区制のマイクスを 理解したい、どすか?

(1) ☆	立法機関	(2)	特別国会
(3) ☆	A 内閣	あ 委員会	い 本会議
(4) ※	衆議院は、任期が参議院より短く、また、解散制度もあるので「選挙」をおこなうことが多い。選挙は、主権者である国民の意見を聞く大きな機会であり、選挙で判断をすることになる。よって、選挙の機会が多い「衆議院が参議院より国民の意思を反映している」として「衆議院の優越」が認められているのである。		

2点がポイント。選挙は、民意をあらわす最大の行動。ここに注目!

思考・判断・表現	2.0	資料活用 の技能	4.6	知識 理解	3.4
組	番				