

No.1 3年生 後期中間テスト社会科(公民)

3年組 番氏名


1 次の文を読んで、各問いに答えなさい。

社会における対立や争いをルールを決めて解決することを(①)という。
 一人の指導者がすべてを決めるという方法もあるが、現在は、A みんなで話し合
い決定する(②)主義の方法をとる国が多い。
 今日では、選挙によって選ばれた代表者によって政治が行われている。このよ
 うな政治のあり方を(③)制という。
 多くの国の政治は、B 政党が中心となつて行われている。政党は、社会全体の意
 見や要求を集約し、政治に反映させる。内閣を組織する政党を(④)党とい
 い、それ以外の政党を(⑤)党という。
 日本では、1993年の総選挙の結果、自民党の以外のC 複数の政党による政権
 が誕生したが、2009年には、民主党を中心とする政党に政権が交代になった。

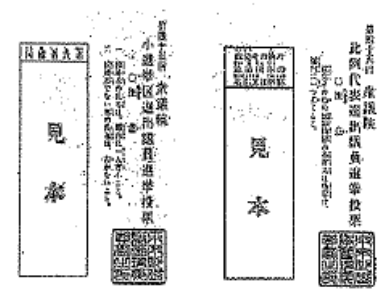
- (1) 文中の①～⑤にあてはまる語句を書きなさい。
- (2) 文中の下線部Aについて、話し合っても意見が一致しないときには、一般にどの
 ような原理に従うことになるか。
- (3) (2)の原理を採用する場合、どのようなことが必要か。簡単に書きなさい。
- (4) 文中の下線部Bのような政治を何というか。
- (5) 文中の下線部Cのような政権を何というか。
- (6) 選挙の時に政党が発表するもので、実現をめざす政策について具体的な数字など
 を示した政権公約のことをカタカナで何といいますか、書きなさい。

2 次の資料を見て、各問いに答えなさい。

【資料1】投票所の様子



【資料2】投票用紙



- (1) 資料1の①～③の場面を、投票の流れの順に並べかえなさい。
 (すべてできて正解)
- (2) 資料2のように、投票用紙には、自分の名前を書く欄がありません。
 このような選挙の原則を何といいますか。
- (3) 次の説明にあてはまる選挙制度を何というか、それぞれ書きなさい。
 ① 1つの選挙区で一人の代表を選ぶ制度。
 ② 政党に投票して、政党の得票率に応じて議席を配分する制度。
- (4) 現在、衆議院議員選挙では、(4)の①・②を組み合わせさせた選挙制度をとって
 います。これを何といいますか。
- (5) ある県で選挙が行われ、資料3のような結果になりました。
 実際に行われている(4)の②のしくみで、候補者への投票を所属政党の
 投票とみなし、各政党から提出された資料4の名簿にもとづいて、
 1～3区の全体から3人の当選者を求めなさい。(すべてできて正解)

【資料3】

選挙区	候補者	政党	得票数
1区	中島さん	さくら党	180
	斉藤さん	タンポポ党	140
2区	山際さん	さくら党	120
	大森さん	タンポポ党	80
3区	江森さん	すみれ党	90
	関根さん	ひまわり党	30

【資料4】

政党	順位と候補者名
さくら党	①中島さん②山際さん
タンポポ党	①大森さん②斉藤さん
すみれ党	①江森さん
ひまわり党	①関根さん

- (6) あなたが将来、有権者になったら、どのような姿勢で、選挙にのぞみたい
 ですか。自分の考えを簡単に説明しなさい。

No. 2

3 次の各問いに答えなさい。

(1) 衆議院と参議院について、次の表中の()①~③にあてはまる数字を書きなさい。

	衆議院	参議院
議員数	(①)人	242人
任期	(②)年。解散あり	6年。解散なし
選挙権	20歳以上	20歳以上
被選挙権	25歳以上	(③)歳以上

(2) 国会は、衆議院と参議院の2つの議院から成り立っています。このような制度を何というか。

(3) 日本国憲法第41条では、国会の地位について、次のように定めています。()①・②に適する語句を書きなさい。

「国会は、国権の(①)機関であって、国の唯一の(②)機関である」

(4) 次の①・②の国会をそれぞれ何といいますか。

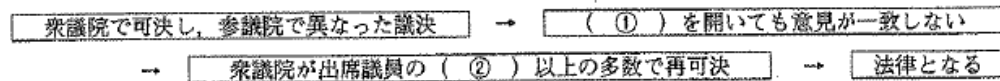
- ① 毎年1回、1月に召集され、おもに予算の審議を行う国会。
- ② 衆議院解散による総選挙後、30日以内に開かれる国会。おもに内閣総理大臣の指名を行う。

(5) 次のア~カのうち、国会の仕事にあてはまらないものを1つ選び、記号を書け。

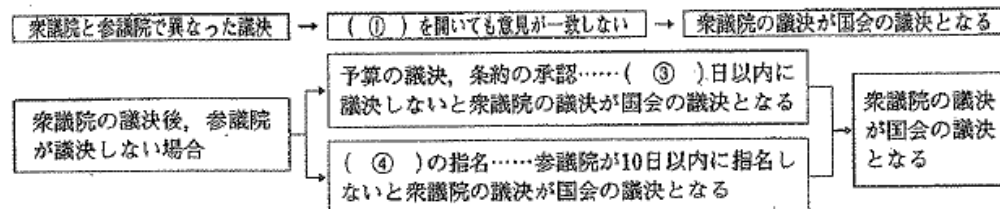
- ア、法律の制定 イ、憲法改正の発議 ウ、予算の審議・議決
- エ、国政調査権 オ、国務大臣の任命 カ、弾劾裁判所の設置

4 次の図と文を読み、各問いに答えなさい。

[法律案について]



[予算の議決、条約の承認、内閣総理大臣の指名について]

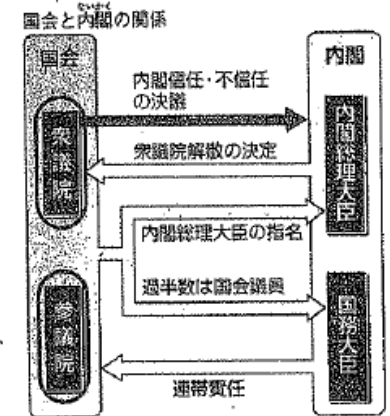


(1) 両議院が異なった議決をした場合について、図中の①~④にあてはまる語句や数字を次から選び、記号で答えなさい。

- ア、10 イ、30 ウ、60 エ、2分の1 オ、3分の2
- カ、4分の1 キ、両院協議会 ク、公聴会 ケ、特別委員会
- コ、国務大臣 サ、内閣総理大臣

(2) 衆議院に強い権限を認めている理由を、両議院のちがいにふれて、簡単に説明しなさい。

(3) 右の図を見て、各問いに答えなさい。



① 国務大臣を任免(任命・罷免)できるのは、だれですか。

② 右図のように日本国憲法では、「内閣は、国会の信任にもとづいて成立し、国会に対して責任を負う」しくみを採用している。この制度を何というか。

③ 内閣不信任の決議が可決されたとき、内閣はどうしなければならないか。次の語句を使って、「内閣は」のあとの文を完成させなさい。
【 10日 衆議院 解散 総辞職 】

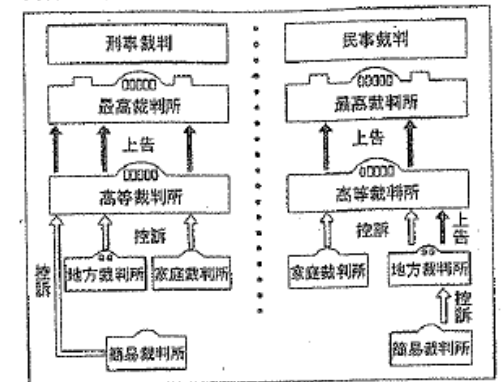
5 右の資料を見て、各問いに答えなさい。

(1) 右の資料の最高裁判所以外の4つの裁判所をまとめて何というか。

(2) 裁判は、控訴・上告をして3回まで受けることができるが、この制度を何というか。

(3) (2)のような制度が、とられている理由を、次の語句を使って説明しなさい。
【 慎重 人権 】

資料 裁判のしくみ



No. 3

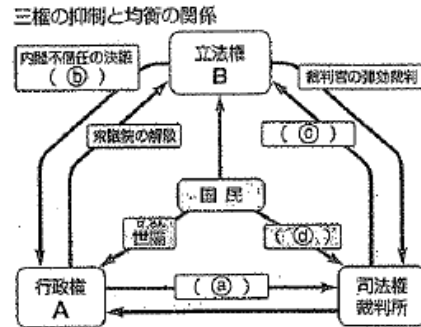
(4) 次の資料を見て、各問いに答えなさい。

2004. 11. 3	警察は、盗みの疑いでAさんを逮捕
2004. 11. 26	Aさんは無実を主張したが、聞き入れてもらえず()は、Aさんを裁判所に起訴
2005. 6. 8	地方裁判所判決 Aさんは懲役1年6か月の有罪・・・ア
2006. 11. 10	Aさんは、控訴 高等裁判所判決 Aさんは第一審判決通り懲役1年6か月の有罪
2008. 2. 22	Aさんは、上告 最高裁判所判決 Aさんは無罪
2008. 10. 7	再捜査により、真犯人のBが逮捕される

- よしこさんは、ある裁判の記録を調べて上のようにまとめた。
()に適する人物の職業は何か、書きなさい。
- もしも、アの時点で、裁判が終わっていたら、Aさんはどうなっていたか。
裁判の記録を参考にして、具体的に書きなさい。
- Aさんのように、無実の罪をきせられた事件を何というか。

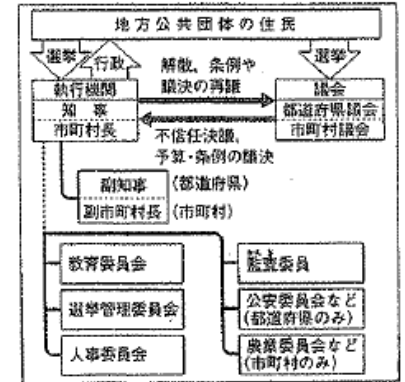
(6) 右の図を見て、次の各問いに答えなさい。

- 図のA・Bにあてはまる機関の名を書きなさい。
- 図の㉑～㉓にあてはまることばを、次のア～オから1つずつ選び、記号を書きなさい。
ア、法律の違憲審査
イ、最高裁判所長官の指名
ウ、選挙
エ、国民審査
オ、内閣総理大臣の指名



- 図のように、国の権力を三つの独立した機関に分担させ、権力が1つの機関に集中するのを防ぐしくみのことを何といいますか。
- なぜ、③のようなしくみが採用されているのか、その理由を「権力が1つの機関に集中すると」の書き出しで、簡単に書きなさい。

資料 地方公共団体の執行機関と議会の関係



6 次の図を見て、各問いに答えなさい。

- 地方公共団体の長を何といいますか。
- 右の資料から、(1)の答えにあてはまる役職を1つ選んで書きなさい。
- (2)や地方議員は、住民から直接選挙で選ばれることから、「地方自治は()の学校である」といわれます。()にあてはまる語句を書きなさい。
- 地方公共団体の仕事にあてはまらないものを次から1つ選び、記号で答えなさい。
ア、ごみの収集や処理 イ、消防・水防 ウ、上下水道の整備
エ、地方裁判所の運営 オ、福祉施設の建設 カ、公立学校の設置

(5) 右の表を見て、各問いに答えなさい。

	請求の内容	必要な署名
A	(ア)の制定・改廃の請求	有権者の50分の1以上
B	監査請求	有権者の3分の1以上
C	議会の(イ)請求	
D	解職請求	

- 表中の()ア・イにあてはまる語句を書きなさい。
- A～Dのように、住民の一定数の署名を集めれば請求できる権利を何といいますか。
- A市は、人口75,000人の市であり、有権者は60,000人である。この市では、隣接する市との合併問題がおこっており、合併に反対する人々は、市に住民投票の実施を求め、図中Aの制定を請求しようと署名活動を始めた。何人以上の署名を集めることが必要か。次のア～エから1つ選び、記号を書きなさい。

ア、1,500人以上 イ、25,000人以上 ウ、1,200人以上 エ、20,000以上

No. 4

(6) 次の資料から読み取った内容として適切でないものを、次のア～カから2つ選び、記号で答えなさい。

【資料】 地方財政(歳入)の変化 (「図説日本の財政」)

歳入項目	2000年度 (総額 58兆 9300億円)	2010年度 (総額 62兆 1268億円)
地方税	39.4%	39.6%
地方交付税交付金など	25.8%	23.4%
国庫支出金	14.7%	14.1%
地方債	12.5%	16.4%
その他	7.6%	6.5%

- ア、2000年度、2010年度とも歳入全体の4割近くを国からの補助に依存している。
- イ、2000年度に比べて、2010年度は、地方税の割合、金額とも増加した。
- ウ、2000年度に比べて、2010年度は、地方税の割合が増加したが、金額が減少した。
- エ、2000年度に比べて、2010年度は、国からの補助の割合、金額とも減少した。
- オ、2000年度に比べて、2010年度は、地方債の割合、金額とも増加した。
- カ、2000年度に比べて、2010年度は、地方債の割合が増加したが、金額が減少した。

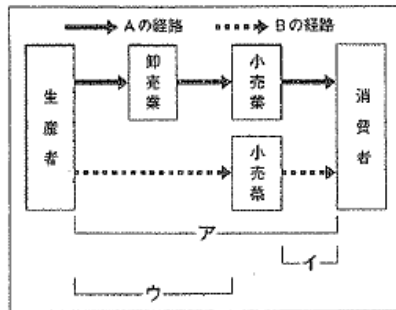
ア 次の各問いに答えなさい。

(1) 次のまんがを見て、各問いに答えなさい。



- ① 上のまんががケースAに関係する消費者を保護する目的で、制定された法律名を書きなさい。
- ② 上のまんががケースBについて、訪問販売や電話勧誘などで、商品を購入した場合、8日以内なら契約が解除できます。この制度を何というか。書きなさい。

(2) 右の図のA・Bは、商品の流れを表している。図を見て、各問いに答えなさい。



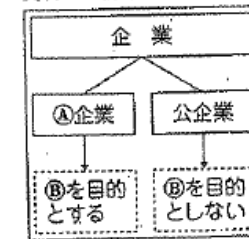
- ① 商品の流れの中で、流通といわれるのはどの部分にあたるか。図中のア～ウから1つ選び、記号を書きなさい。
- ② 図中の卸売業や小売業は、流通を専門に行います。このような仕事を何といいますか。

③ 小売価格の競争のため、スーパーなどの大規模小売店は、どのような工夫をしていますか。図を参考に、次の語句を使って、簡単に書きなさい。

「生産者」「節約」

8 次の資料や図を見て、各問いに答えなさい。

資料 企業の種類

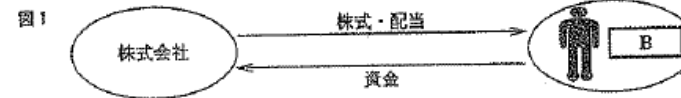


(1) 右の資料の④にあてはまる語句を書きなさい。


(2) 株式に関する次の文章と下の図の空欄 A と B にあてはまる語句をそれぞれ書きなさい。

(埼玉県公立高校入試 過去問題より)

企業は資本(元手)を使って、A を目的に生産活動を行います。株式を発行して資金を集める企業が株式会社です。株式を購入した B は B 総会で経営に関する意見などを言えます。



(3) 右の資料は、千株券(5万円)の株式を購入したことを証明する株券である。この株式の値段は、1株何円か。



(4) この株式を発行している会社は、事業拡大のために、1,000万円の資金が必要になった。あと何株発行すればよいか。

(5) 次の①・②の場合、株式の値段は、どのように変化するか。(上がる・下がるで答えよ)

- ① 製品事故などで、社会的信用をなくした場合。
- ② ヒット商品をつくって、売り上げを伸ばした場合。

3年生 社会科学後期中間テスト 解答用紙 3年組 番氏名

1 模範解答

☆配点 太枠は、2点または3点(記入あり)・他は、各1点

1	① 政治	② 民主主義	③ 間接民主制	④ 与党	⑤ 野党
2	多数決の原理	3	★(3点) (2)の原理を採用する場合 少数の意見を尊重することが必要		4 政 党 政 治
5	連立政権	6	カタカナ マニフエスト		

2 (1)全てできて正解・(5)全てできて正解(順不同)

1	① 番号順	2	② 秘密選挙	3	① 小選挙区制	② 比例代表制
4	小選挙区比例代表並立制	5	⑤ (3点) 中島さん 山原さん 大森さん			
6	★(2点)自分の考え 記入例：政党や候補者の公約や意見をよく聞いて判断する。					

3

1	① 480人	② 4年	③ 30歳以上	2 二院制	3 ① 最高機関
② 立法機関	4	① 国会名 通常国会(常会)	② 国会名 特別国会(特別会)	5	記号 オ

4

1	① 記号 オ	② 記号 イ	③ 記号 イ	④ 記号 ウ	4 (1)①~④・(3)①・②各2点
2	★説明(3点) 任期が短く、解散があるので、国民の意見(民意)が、政治に反映されやすいから				
3	① 内閣総理大臣 ② 議院内閣制				
③	★(3点) 内閣は、10日以内に衆議院を解散するか、または、総辞職をしなければならぬ。				

5

1	下 級 裁判所	2 三 審 制	3	★説明(3点) 裁判を慎重に行い、人権を守るため		
4	① 検察官	② 懲役1年6ヶ月の有罪		③ えん罪(冤罪)	5 ①A 内閣	
①B 国会	②a 記号 イ	②b 記号 オ	②c 記号 ア	②d 記号 エ	③ 三権分立	
④ 権力が1つの機関に集中すると、強大となり、国民の自由をおびやかすことになるので ★(3点)						

6

1	首 長	2 知事(市町村長)	3 属主主義の学校	4 記号 エ	5 ①ア 衆 例
①イ 解散	② 直接請求 権	③ 記号 ウ	6 記号(2点) イ	記号(2点) カ	(6)順不同

7

1	① 製造物責任(PL)法	② クーリング・オフ	2 ① ア	② 商 業
③ ★(3点) 生産者から直接仕入れ、輸送費用の節約をしている。				

8

1	私 企 業	2 A 利 潤 (利益)	B 株 主	3 ① 株(2点) 50 円	4 ② 20万 株
5	① 下がる	② 上がる	★		