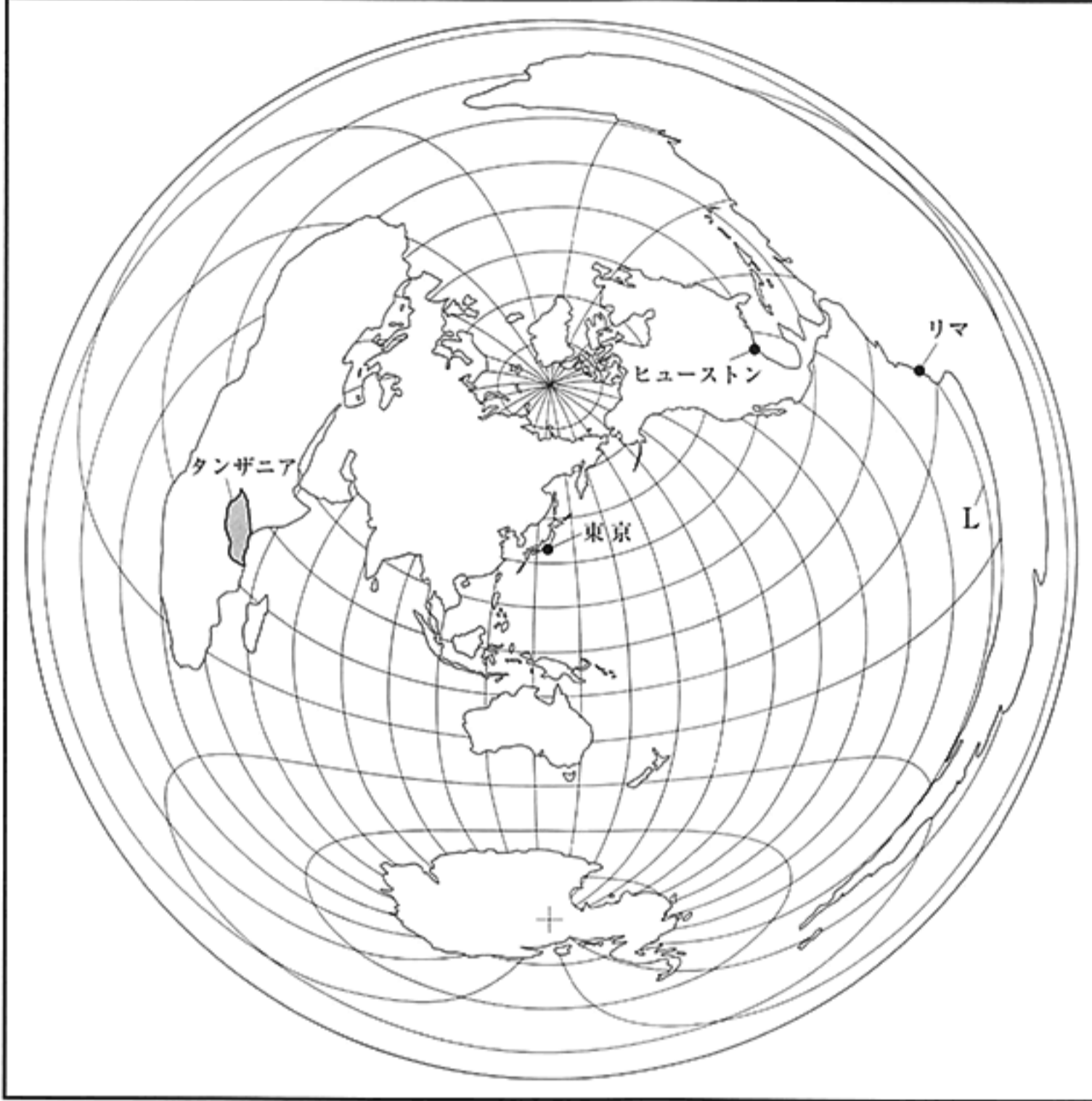
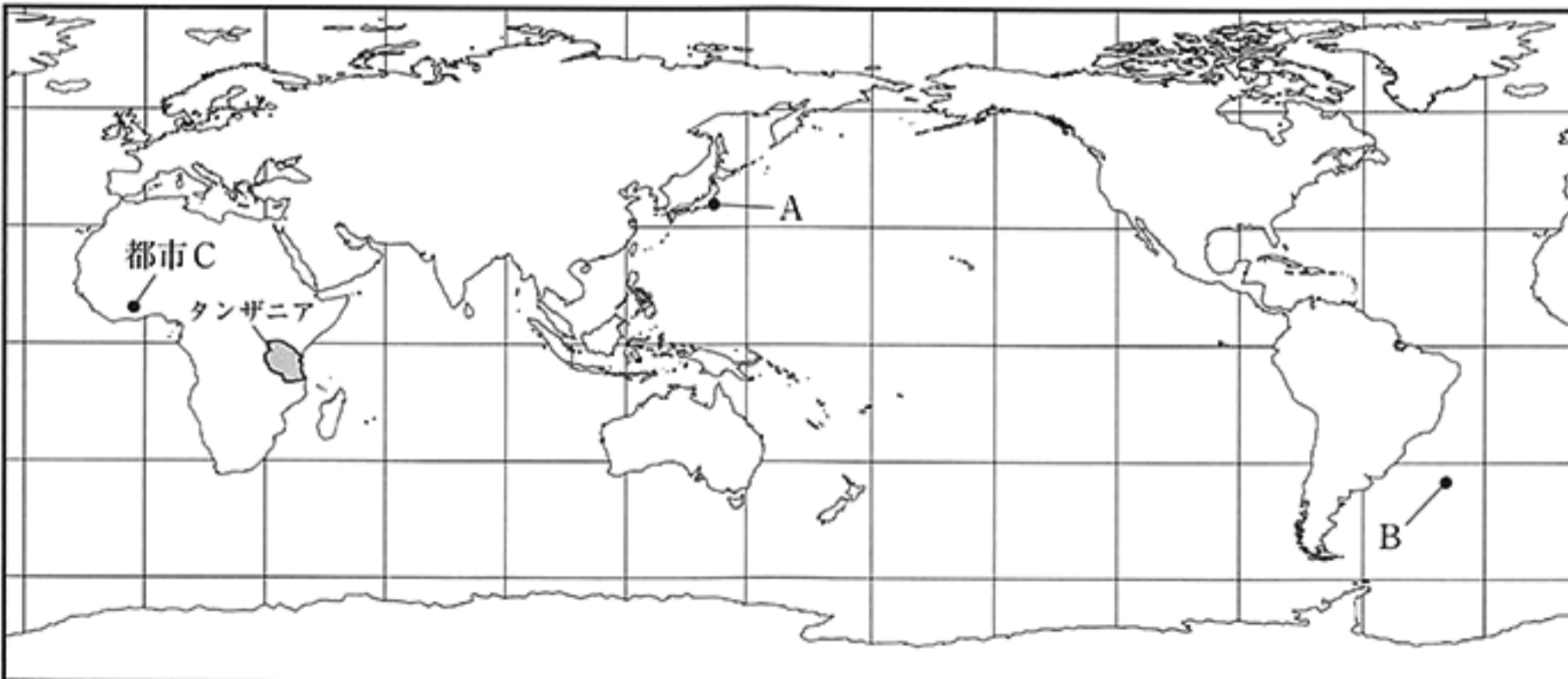


問1 次の略地図Ⅰは、地図の中心にある東京からの距離と方位が正しくあらわされた地図である。また、略地図Ⅱは、緯線と経線が直角に交わった地図である。これらの地図について、あとの各問いに答えなさい。なお、略地図Ⅰの緯線は赤道から15度ごと、経線は本初子午線から15度ごとに、略地図Ⅱの緯線は赤道から30度ごと、経線は本初子午線から30度ごとに引いてある。

略地図Ⅰ



略地図Ⅱ



(ア) 次の  中の  あ  にあてはまるものを、あとの1～4の中から一つ選び、その番号を答えなさい。

略地図Ⅰ及び略地図Ⅱのタンザニアは、東京から見てほぼ  あ  の方位に位置している。

1. 北西                      2. 西                      3. 南西                      4. 南

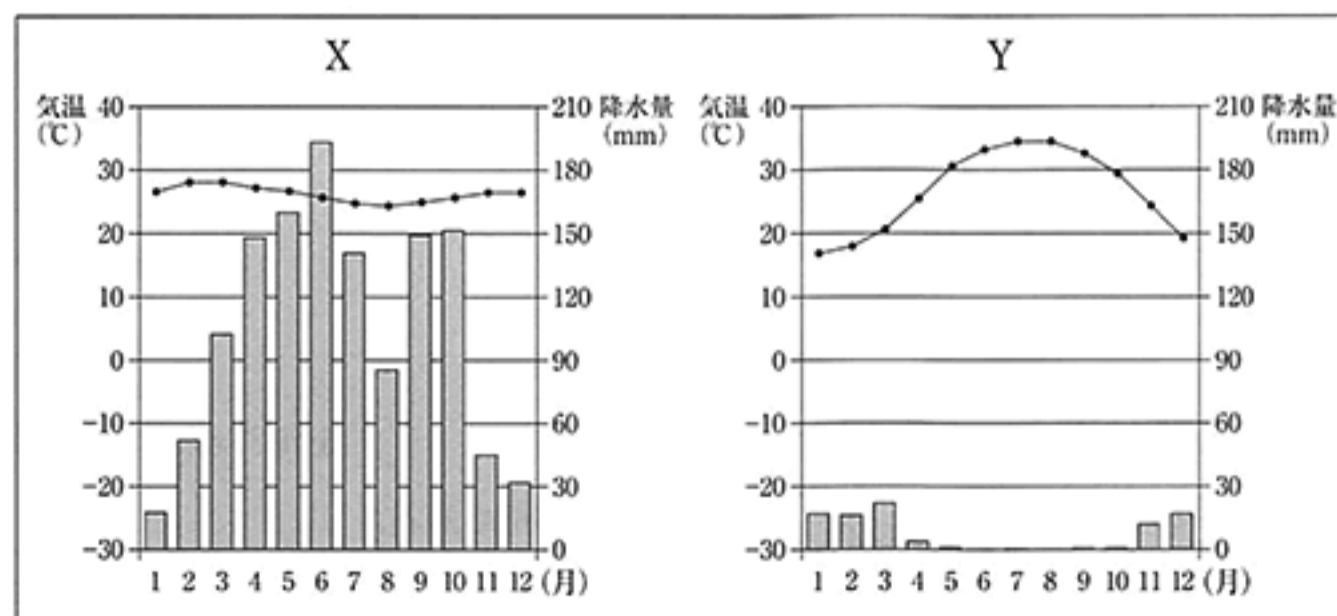
(イ) 次の  中の  い  にあてはまるものを、あとの1～4の中から一つ選び、その番号を答えなさい。

略地図ⅡのAで示した地点に対して地球の中心を通った反対側の地点は、略地図ⅡにBで示した地点である。Aで示した地点が北緯35度、東経140度であるとする、Bで示した地点は  い  である。

1. 南緯35度、西経40度                      2. 南緯35度、西経140度  
3. 南緯55度、西経40度                      4. 南緯55度、西経140度

(ウ) 略地図Ⅰにある東京からリマに航空機で行くには、一度乗り継ぐ必要がある。日本時間の2月15日午後4時に東京国際空港を出発し、12時間かかってヒューストンに到着した。その2時間後にヒューストンを出発し、リマに到着したのは現地時間の2月15日午後11時であった。ヒューストンを出発してからリマに到着するまでにかかった時間を書きなさい。なお、リマの標準時の基準となる経度は、略地図ⅠのLの経線で示している。また、サマータイムの設定はないものとする。

(エ) 略地図Ⅱにある都市Cの月ごとの平均気温と降水量をあらわしたグラフと都市Cの周辺で栽培される代表的な農作物の組み合わせとして最も適するものを、あとの1～6の中から一つ選び、その番号を答えなさい。

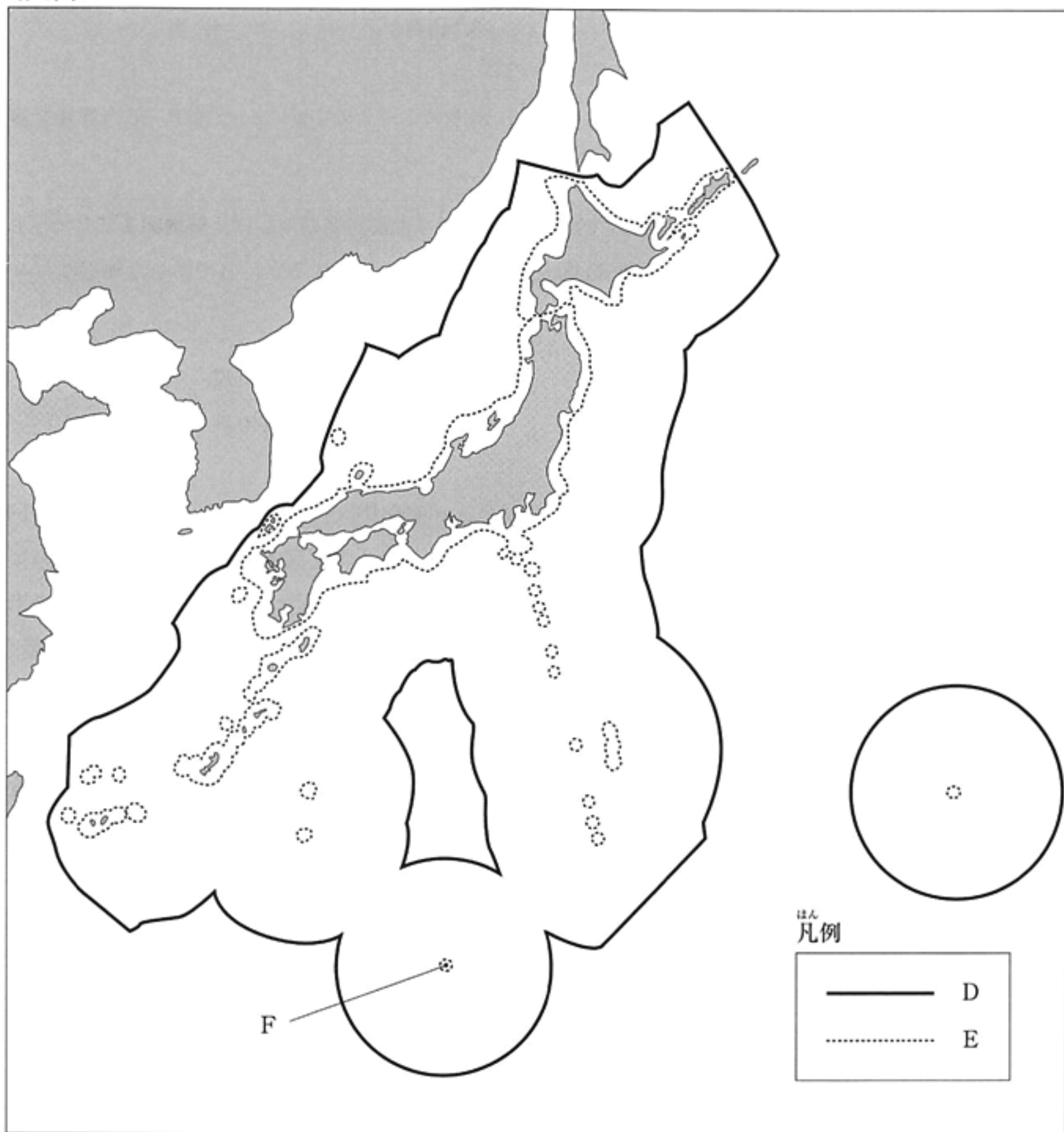


(「理科年表 平成28年」をもとに作成)

1. X-ライ麦                      2. X-オリーブ                      3. X-カカオ  
4. Y-ライ麦                      5. Y-オリーブ                      6. Y-カカオ

(オ) 次の略地図Ⅲは、日本とその周辺の地域をあらわしたものである。略地図Ⅲに関して説明した  
 中の  う  ,  え  ,  お  にあてはまるものの組み合わせとして最も適するものを、あ  
 との1～8の中から一つ選び、その番号を答えなさい。

略地図Ⅲ



国の領域は、領土、 う  及び領空から構成されている。日本は、 う  を海岸線から12海里  
 以内としており、略地図Ⅲ中の凡例で示した  え  の線までの範囲である。  
 またFの島は、日本の領土の端にあたる  お  である。

- |              |     |       |              |     |        |
|--------------|-----|-------|--------------|-----|--------|
| 1. う：排他的経済水域 | え：D | お：南鳥島 | 2. う：排他的経済水域 | え：D | お：沖ノ鳥島 |
| 3. う：排他的経済水域 | え：E | お：南鳥島 | 4. う：排他的経済水域 | え：E | お：沖ノ鳥島 |
| 5. う：領海      | え：D | お：南鳥島 | 6. う：領海      | え：D | お：沖ノ鳥島 |
| 7. う：領海      | え：E | お：南鳥島 | 8. う：領海      | え：E | お：沖ノ鳥島 |

問2 Kさんは関東地方の産業や利根川沿いの地域などについて調べ、メモを作成した。これについて、あとの各問いに答えなさい。

メモ

関東地方では、その立地を生かした①農業や②工業が発達しています。関東平野を北西から南東へ流れる③利根川は、産業の発展にも深く関わってきました。また、群馬県にある④尾瀬国立公園など、各地には貴重な自然が多く残されています。

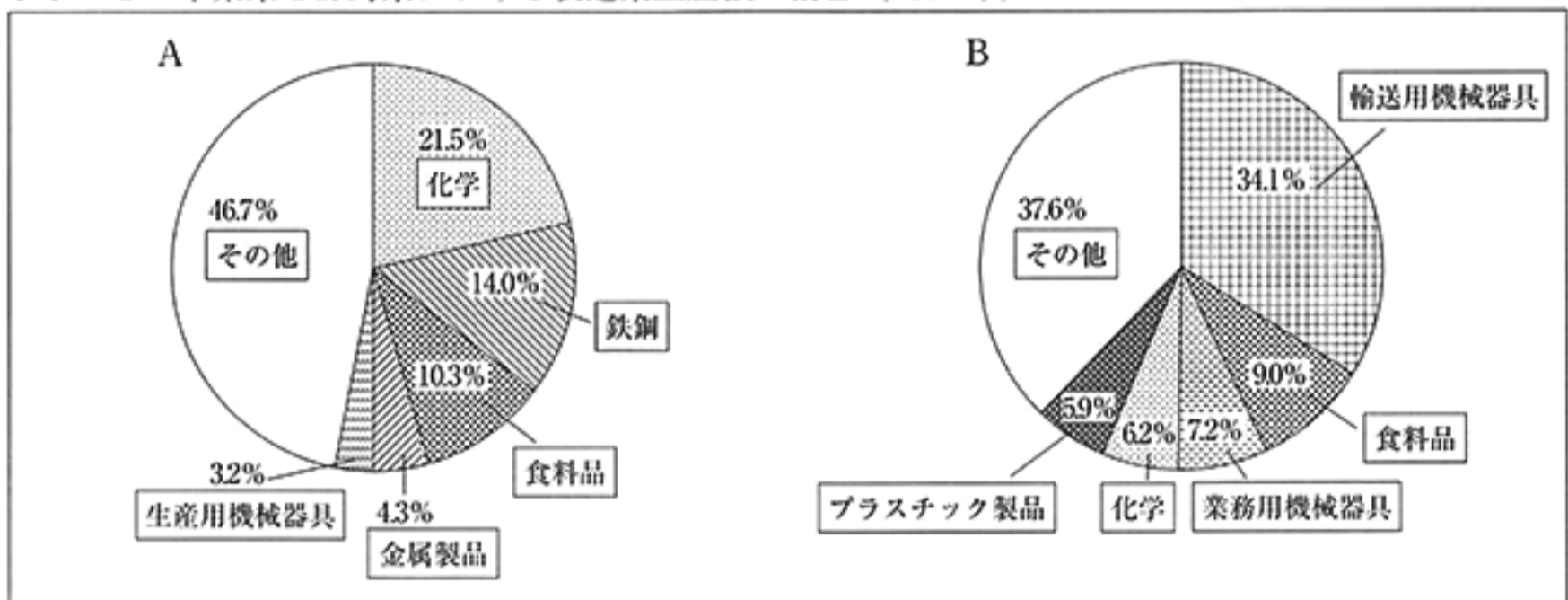
(ア) 線①に関して、右の表は、2014年における北海道、秋田県、群馬県、富山県の農業産出額の内訳をあらわしたものである。このうち群馬県の農業産出額をあらわしたものを表中の1～4の中から一つ選び、その番号を答えなさい。

道・県	米	野菜	畜産	その他	合計
1	1,105	2,116	6,032	1,857	11,110
2	114	920	1,040	261	2,335
3	773	235	332	133	1,473
4	377	52	90	62	581

(「平成26年生産農業所得統計」(農林水産省)をもとに作成)

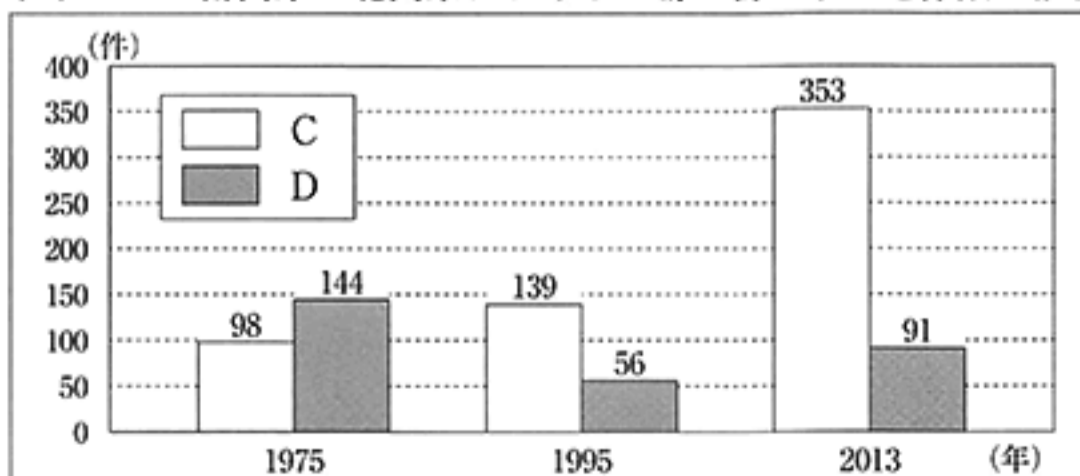
(イ) 線②に関して、次のグラフIは、千葉県と群馬県における製造業生産額の割合をAとBに分けて示し、グラフIIは、南関東(東京都・神奈川県・千葉県・埼玉県)と北関東(群馬県・栃木県・茨城県)における工場の新たな立地件数の推移をCとDに分けて示している。これらのうち、群馬県における製造業生産額の割合をあらわしたものと、北関東における工場の新たな立地件数の推移をあらわしたものの組み合わせとして正しいものを、あとの1～4の中から一つ選び、その番号を答えなさい。

グラフI 千葉県と群馬県における製造業生産額の割合(2012年)



(「全国の工業データ」(経済産業省)をもとに作成)

グラフII 南関東と北関東における工場の新たな立地件数の推移



(「工場立地動向調査」(経済産業省)をもとに作成)

- |          |          |
|----------|----------|
| 1. A - C | 2. A - D |
| 3. B - C | 4. B - D |



- (i) 地形図に関して、次の  中の  あ  ,  い  にあてはまるものの組み合わせとして最も適するものを、あとの1～8の中から一つ選び、その番号を答えなさい。

利根川の支流の一つである片品川沿いにある沼須町では、中心となる集落を貫く道路の北東側に比べて、南西側には  あ  が多く見られる。

沼田市の市役所から城跡のある沼田公園までは、地形図の上で2.5 cmであるとする、実際の距離は  い  である。

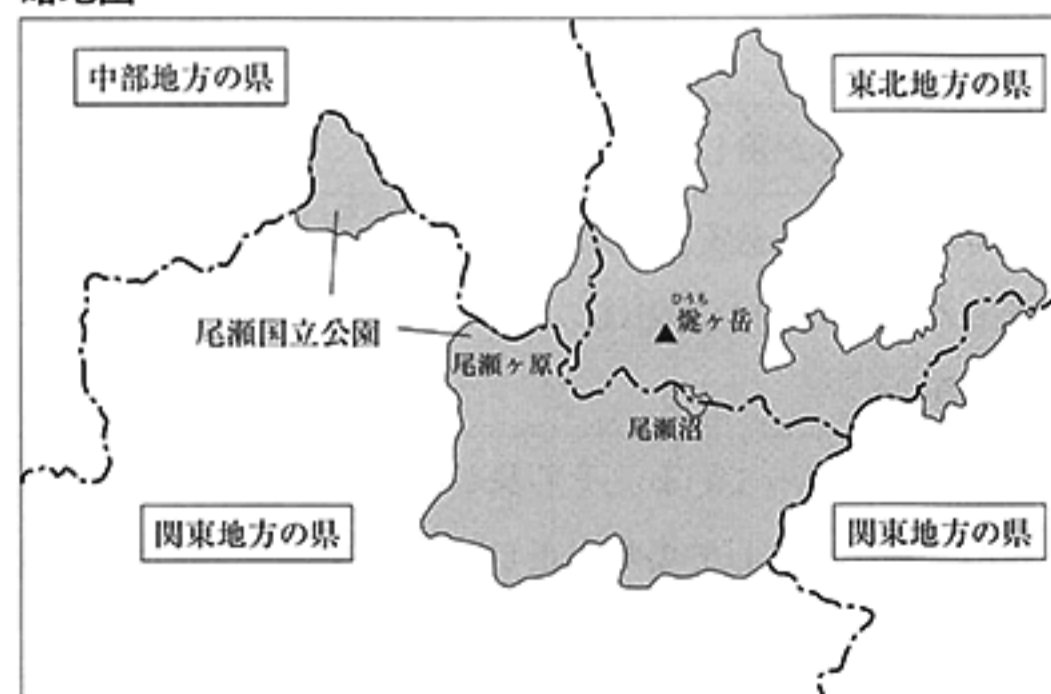
- |        |           |        |           |        |          |
|--------|-----------|--------|-----------|--------|----------|
| 1. あ：畑 | い：250 m   | 2. あ：畑 | い：625 m   | 3. あ：畑 | い：2.5 km |
| 4. あ：畑 | い：6.25 km | 5. あ：田 | い：250 m   | 6. あ：田 | い：625 m  |
| 7. あ：田 | い：2.5 km  | 8. あ：田 | い：6.25 km |        |          |

- (ii) 地形図上の  X  -  Y  の略断面図として最も適するものを、次の1～4の中から一つ選び、その番号を答えなさい。



- (エ) 線④に関して、次の略地図に示したように尾瀬国立公園は4つの県にまたがっている。この4つの県のうち東北地方と中部地方に属する県名の組み合わせとして正しいものを、あとの1～4の中から一つ選び、その番号を答えなさい。

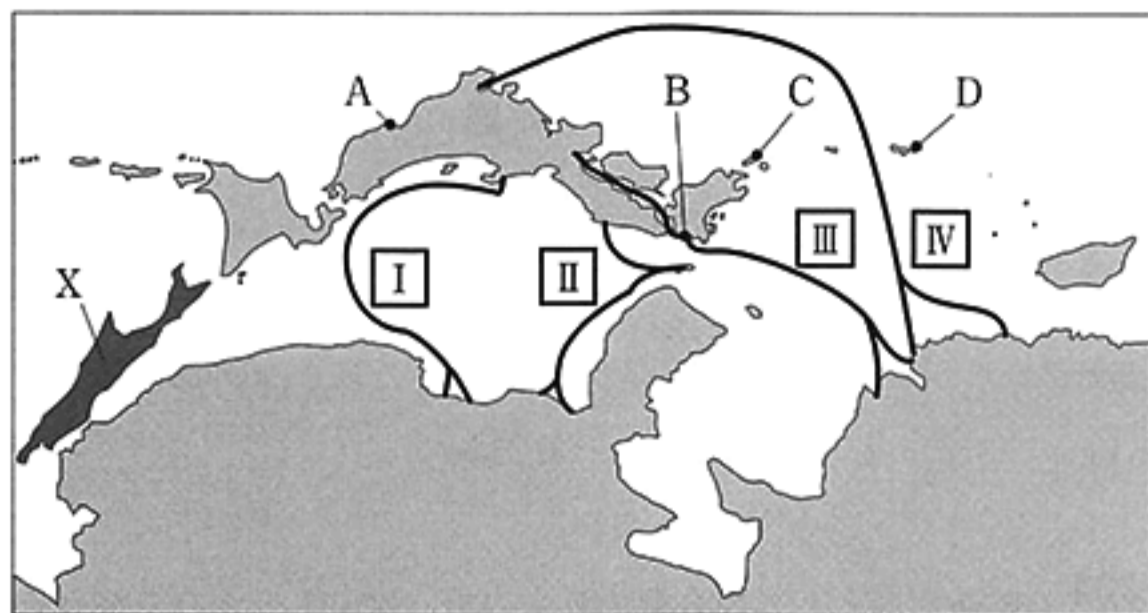
略地図



- |             |          |             |          |
|-------------|----------|-------------|----------|
| 1. 東北地方：山形県 | 中部地方：新潟県 | 2. 東北地方：福島県 | 中部地方：長野県 |
| 3. 東北地方：山形県 | 中部地方：長野県 | 4. 東北地方：福島県 | 中部地方：新潟県 |

問3 Kさんは、大陸から見た日本の位置を把握するために、次のような略地図を作成し、様々なできごとを、おきた順に表にまとめて日本と大陸とのつながりなどについて考えた。これらについて、あとの各問いに答えなさい。

略地図



表

日本と大陸とのつながりなど	
白村江の戦いがおこる。 <small>はくすきのえ はくそんこう</small>	↑ 1
唐が滅亡する。	×
元軍が北九州に襲来する(元寇)。 <small>げんこう</small>	×
足利義満が明と貿易を始める。 <small>あしかがよしみつ</small>	3
豊臣秀吉が朝鮮半島への出兵を命じる。 <small>とよとみひでよし</small>	×
日清修好条規が結ばれる。 <small>にっしん</small>	↓ 4

(ア) 次の資料Ⅰ、資料Ⅱについて解説した文中の **あ**、**い** にあてはまる場所を略地図中の記号 A～D からそれぞれ選んだときの組み合わせとして最も適するものを、あとの 1～4 の中から一つ選び、その番号を答えなさい。

資料Ⅰ さきもり 防人に 行くは誰が背と 問ふ人を 見るが羨しさ ものもひ 物思もせず

解説 資料Ⅰは、兵役で任地に向かう夫を見送る妻の悲しみを歌ったもので、「万葉集」に収められている。この兵役につく者が向かう先は、おもに略地図中の **あ** で示した場所とその周辺の地域である。

資料Ⅱ 船には商人の長が二人おり、手に一物を持っている。その長さは二三尺、真中が通じ、外はまっすぐで重量感がある。その一物を手にして姿勢を正し、片方の目をつむり、その一つの穴より火を放つと、当たらぬというものはない。

解説 資料Ⅱは、16世紀に略地図中の **い** で示した場所に、ある道具が伝来したときの様子を記録したものの一部である。この道具が伝わったことで、これまでの築城や戦闘の方法が変化した。

1. あ：A い：C      2. あ：A い：D      3. あ：B い：C      4. あ：B い：D

(イ) 次の [ ] 中の [う] にあてはまる略地図中の記号 [I] ~ [IV] として最も適するものを、あとの1~4の中から一つ選び、その番号を答えなさい。

遣唐使は8世紀以降、略地図中の唐の港と日本の都の近くにある港を結ぶ [う] で示した航路などを通っていたが、9世紀末になると航海に危険が伴うことを理由の一つとして停止された。

1. [I]                      2. [II]                      3. [III]                      4. [IV]

(ウ) 次の [ ] 中の [え] にあてはまるものを、あとの1~4の中から一つ選び、その番号を答えなさい。

[え] は、幕府の命で略地図中のXの島の沿岸を調査し、ここが島であることを確認した。

1. 一遍 いっぺん                      2. 松尾芭蕉 まつお ばしやう                      3. 坂上田村麻呂 さかのうえのたむら まろ                      4. 間宮林蔵 まみやりんぞう

(エ) 次の資料Ⅲ、資料Ⅳについて解説した文中の [お] , [か] にあてはまる表中の記号 [1] ~ [4] として最も適するものを、それぞれあとの1~4の中から一つずつ選び、それぞれ番号を答えなさい。

資料Ⅲ



(京都国立博物館ウェブサイトから)

解説

資料Ⅲは、日本の水墨画を完成させたと言われる雪舟が描いた「天橋立図」である。雪舟は、表の [お] の時期に中国に渡り、墨の濃淡で表現する水墨画の技法などを学んだのちに帰国し、数々の名作を残した。

資料Ⅳ



(東京国立博物館ウェブサイトから)

解説


資料Ⅳは、真言宗を開き、高野山に金剛峯寺を建てた僧侶を描いたものである。この僧侶は、表の [か] の時期に中国に渡り、新しい仏教を学んで帰国した。真言宗は、奈良時代の仏教を批判して、人里離れた山中での修行や学問を重視し、やがて天皇や貴族に信仰された。

1. [1]                      2. [2]                      3. [3]                      4. [4]

(オ) 表中の — 線に関して説明した次の [ ] 中の [き] にあてはまる語句を漢字2字で書きなさい。

中国に向かう日本の正式な貿易船は、倭寇ではないことの証明として明から与えられた資料Ⅴのような [き] を使用した。このため、この貿易のことを [き] 貿易とよぶ。

資料Ⅴ





問4 Kさんは、明治時代以降の経済の歴史を考えるために略年表を作成した。これについて、あとの各問いに答えなさい。

略年表

1850年	<p>① <u>日米修好通商条約</u>が結ばれ、横浜港などで貿易が始まる。</p> <p>② <u>地租改正</u>が実施される。</p>	<p>↑</p> <p>A</p> <p>×</p> <p>B</p>
1900年	<p>機械化が進み、綿製品や生糸の輸出が増加する。</p> <p>ポーツマス条約が結ばれる。</p> <p>③ <u>第一次世界大戦</u>が始まり、日本は好景気となる。</p> <p>アメリカで株価が暴落し、④ <u>世界恐慌</u>がおこる。</p>	<p>×</p> <p>C</p> <p>×</p>
1950年	<p>第二次世界大戦が終了し、日本では経済の復興が始まる。</p> <p>アジアで初のオリンピックが東京で開催される。</p>	<p>D</p> <p>↓</p>

(ア) —線①に関して説明した次の [ ] 中の文について、あとの各問いに答えなさい。

この条約では、日本人に対し犯罪を犯したアメリカ人は、 [ あ ] と定められていたが、のちに陸奥宗光が外相のときに改正された。また、貿易品にかかる税の割合については、日本に自主的に決定する権利がなく、外国からは、機械で生産された綿製品が国内産よりも [ い ] 価格で輸入されるようになり、開港直後の日本経済は大きな影響を受けた。

(i) [ ] 中の [ あ ] ， [ い ] にあてはまるものの組み合わせとして最も適するものを、次の1～4の中から一つ選び、その番号を答えなさい。

- |                      |      |
|----------------------|------|
| 1. あ：アメリカの領事によって裁かれる | い：安い |
| 2. あ：アメリカの領事によって裁かれる | い：高い |
| 3. あ：有罪となることはない      | い：安い |
| 4. あ：有罪となることはない      | い：高い |

(ii) [ ] 中の —線に関して、この内容が完全に改正された略年表中の時期として正しいものを、次の1～4の中から一つ選び、その番号を答えなさい。

- |          |          |          |          |
|----------|----------|----------|----------|
| 1. [ A ] | 2. [ B ] | 3. [ C ] | 4. [ D ] |
|----------|----------|----------|----------|

(イ) —線②に関して説明したものとして最も適するものを、次の1～4の中から一つ選び、その番号を答えなさい。

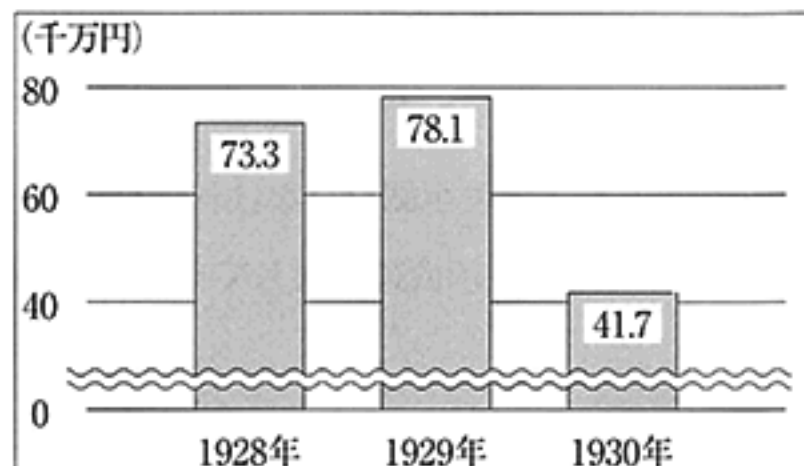
1. 売り上げの3%を、事業者が納めるようになった。
2. 土地の所有権が明確にされ、土地にかかる税を現金で納めるようになった。
3. 国が、地主の農地を買い上げて小作人に売り渡し、土地を持つ農民が増えた。
4. その年の収穫高に応じて、米で税を納めるようになった。

(ウ) 線③がおきた時期以降のできごととして誤っているものを、次の1～4の中から一つ選び、その番号を答えなさい。

1. 中国では、孫文<sup>スンウエン</sup>を臨時大総統とする中華民国の建国が宣言された。
2. 朝鮮半島では、「独立万歳」を叫んで日本の支配に抵抗する三・一独立運動が広まった。
3. インドでは、ガンディー（ガンジー）らを中心に、イギリスの統治に対して自治を求める運動が広まった。
4. ロシアでは、社会主義にもとづく新しい国家建設が進められ、ソ連が成立した。

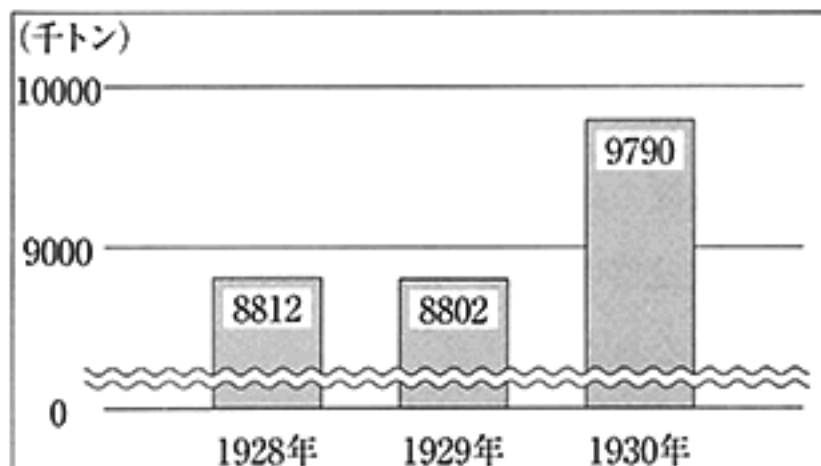
(エ) 線④に関して、次の資料Ⅰ～資料Ⅲを見て、あとの各問いに答えなさい。

資料Ⅰ 日本の生糸の輸出額



(「明治以降本邦主要経済統計」  
(日本銀行統計局) をもとに作成)

資料Ⅱ 日本の米の収穫高



(「作物統計」(農林水産省) をもとに作成)

資料Ⅲ 1930年12月30日の新聞記事

昭和五(1930)年は全国農村にとり受難の一年であった。未曾有<sup>みそう</sup>の米穀大豊作は「豊年飢饉<sup>ききん</sup>」なる珍現象を現し、農村に再び立ち得ざる致命傷<sup>あたら</sup>を与うるに至った。

(「中外商業新報」から)

- (i) 資料Ⅰから読みとれることと、その結果、養蚕を営む多くの農家の収入が減った理由を、まゆの価格という語句をそのまま用いて書きなさい。なお、文末は句点(。)で終わること。
- (ii) 資料Ⅱおよび資料Ⅲから読みとれることと、その結果、稲作を営む多くの農家の収入が減った理由を、米の価格という語句をそのまま用いて書きなさい。なお、文末は句点(。)で終わること。

(オ) 略年表中の[D]の期間にあったできごとに関して、次の[ ]中の[う]、[え]にあてはまるものの組み合わせとして正しいものを、あとの1～4の中から一つ選び、その番号を答えなさい。

朝鮮戦争がおき、日本では[う]の指令により警察予備隊が組織され、経済的には[え]。

- |            |                               |
|------------|-------------------------------|
| 1. う：GHQ   | え：軍需品が大量に注文され、国内経済が急速に回復に向かった |
| 2. う：GHQ   | え：原油価格が上昇して高度経済成長が終了した        |
| 3. う：大政翼賛会 | え：軍需品が大量に注文され、国内経済が急速に回復に向かった |
| 4. う：大政翼賛会 | え：原油価格が上昇して高度経済成長が終了した        |

問5 Kさんは、アメリカ合衆国から大統領が来日したことをきっかけに、両国の政治のしくみなどについて調べ、メモを作成した。これについて、あとの各問いに答えなさい。

メモ

①憲法には、その国にとって基本となることがらが定められており、アメリカ合衆国と②議院内閣制を採用している日本とでは、立法、行政、③司法のしくみに違いがあることがわかりました。また、④社会保障の内容にも違いが見られました。

(ア) —線①に関して、日本国憲法の改正の手続きについて述べた文として最も適するものを、次の1～4の中から一つ選び、その番号を答えなさい。

1. 国民投票の結果、有効投票の過半数の賛成で国民が発議し、国会に提案してその承認を経なければならない。
2. 各議院の総議員の過半数の賛成で国会が発議し、国民に提案してその承認を経なければならない。
3. 国民投票の結果、有効投票の3分の2以上の賛成で国民が発議し、国会に提案してその承認を経なければならない。
4. 各議院の総議員の3分の2以上の賛成で国会が発議し、国民に提案してその承認を経なければならない。

(イ) —線②に関して、次の□中の「あ」、「い」、「う」にあてはまるものの組み合わせとして正しいものを、あとの1～4の中から一つ選び、その番号を答えなさい。

日本では、議院内閣制が取り入れられており、日本国憲法では、「□あ□は、行政権の行使について、□い□に対し連帯して責任を負う」と定められている。一方、アメリカ合衆国では、□う□が取り入れられており、行政府の長を国民が選挙で選ぶしくみになっている。

- |         |      |        |         |      |         |
|---------|------|--------|---------|------|---------|
| 1. あ：国会 | い：内閣 | う：大統領制 | 2. あ：国会 | い：内閣 | う：比例代表制 |
| 3. あ：内閣 | い：国会 | う：大統領制 | 4. あ：内閣 | い：国会 | う：比例代表制 |


(ウ) —線③に関して、日本の裁判のしくみなどについての説明として最も適するものを、次の1～4の中から一つ選び、その番号を答えなさい。

1. 警察が被疑者を起訴して裁判が始まり、有罪が確定するまでは、被告人は無罪として扱われる。
2. 被告人が犯罪を行ったことを認める本人の供述により、他の証拠の有無にかかわらず有罪となる。
3. 裁判員は有罪か無罪かのみを判断し、有罪とした場合、具体的な刑の内容の決定には関わらない。
4. 抑留や拘禁された後、無罪の裁判を受けたときは、国に補償を求めることができる。

(エ) 一線④に関して、あとの各問いに答えなさい。

- (i) 各国の政府の社会保障支出の割合と国民負担率の関係をあらわした次のグラフを見て、あとの  
 中の文の **え** , **お** にあてはまるものの組み合わせとして最も適するものを、あとの  
 1～6の中から一つ選び、その番号を答えなさい。

グラフ

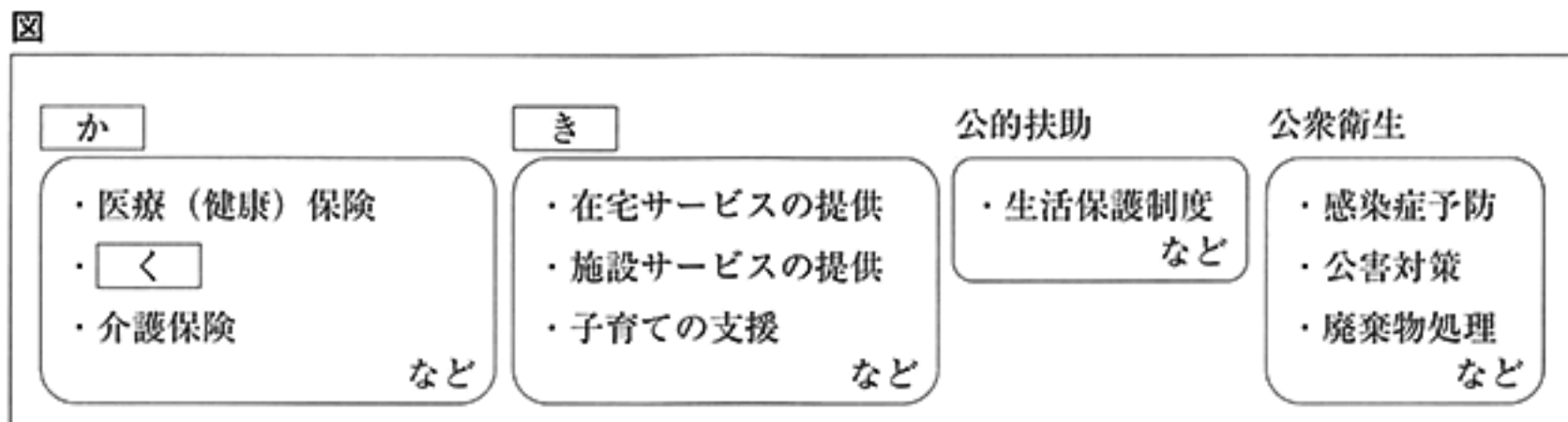


(OECD Data 及び財務省ウェブサイト掲載資料 (2011年のデータ) をもとに作成)

グラフにある国の中で、日本よりも政府の社会保障支出の割合が低く、国民負担率も低い国は全部で **え** である。また、政府の社会保障支出の割合が高い国は、国民負担率が **お** 傾向があることがわかる。

- |          |      |          |      |
|----------|------|----------|------|
| 1. え：四か国 | お：高い | 2. え：四か国 | お：低い |
| 3. え：五か国 | お：高い | 4. え：五か国 | お：低い |
| 5. え：七か国 | お：高い | 6. え：七か国 | お：低い |

- (ii) 日本の社会保障制度の概要をあらわした次の図中の **か** , **き** , **く** にあてはまるものの組み合わせとして最も適するものを、あとの1～6の中から一つ選び、その番号を答えなさい。



(「戦後社会保障制度史」(厚生労働省) をもとに作成)

- |           |        |        |           |        |        |
|-----------|--------|--------|-----------|--------|--------|
| 1. か：社会福祉 | き：社会保険 | く：年金制度 | 2. か：社会福祉 | き：年金制度 | く：社会保険 |
| 3. か：年金制度 | き：社会福祉 | く：社会保険 | 4. か：年金制度 | き：社会保険 | く：社会福祉 |
| 5. か：社会保険 | き：社会福祉 | く：年金制度 | 6. か：社会保険 | き：年金制度 | く：社会福祉 |

問6 Kさんは、社会科の授業で感想文を書いた。これについて、あとの各問いに答えなさい。

### 感想文

私たちはこの一年間、社会科の授業の中で①国際社会の平和や②持続可能な社会の実現のために何をすべきか、現代の日本人の③労働環境に課題はないか、④都市と地方の課題をどのように解決していくかなどのテーマについて学習してきました。私は、こうした問題につねに関心を持ち、自分の意見をより良いものにしていくことが大事だと思いました。

(ア) —線①に関して、国際連合について説明したものとして正しいものを、次の1～4の中から一つ選び、その番号を答えなさい。

1. 経済発展によって国際社会における存在感が大きくなった日本は、常任理事国となっている。
2. 安全保障理事会では、常任理事国は拒否権を行使することが認められている。
3. 加盟している国には、国の経済の規模にかかわらず、平等な額の分担金を納める義務がある。
4. 経済の規模が世界でも屈指の中華人民共和国が加盟していない。

(イ) —線②に関して、次の〔 〕中の〔あ〕、〔い〕にあてはまるものの組み合わせとして最も適するものを、あとの1～4の中から一つ選び、その番号を答えなさい。

1997年に、〔あ〕を定めた「京都議定書」が採択された。その際、「責任は、これまで経済発展を遂げてきた先進国にあり、発展途上国にはこれから経済発展を遂げる権利がある。」など〔い〕の観点から主張する意見もあり、実効性のあるしくみをどのように作っていくかという点で課題を残した。

- |                    |      |
|--------------------|------|
| 1. あ：核兵器保持の禁止      | い：効率 |
| 2. あ：核兵器保持の禁止      | い：公正 |
| 3. あ：温室効果ガスの排出削減目標 | い：効率 |
| 4. あ：温室効果ガスの排出削減目標 | い：公正 |

(ウ) —線③に関して、次の表は日本の雇用者数の推移をあらわしたものである。このような推移をもたらした企業の意図として最も適するものを、あとの1～4の中から一つ選び、その番号を答えなさい。

表 (万人)

役員を除く雇用者	1995年	2005年	2015年
正規の職員・従業員	3,779	3,333	3,265
非正規の職員・従業員	1,001	1,591	1,979

(「年齢階級、雇用形態別雇用者数」(総務省)をもとに作成)

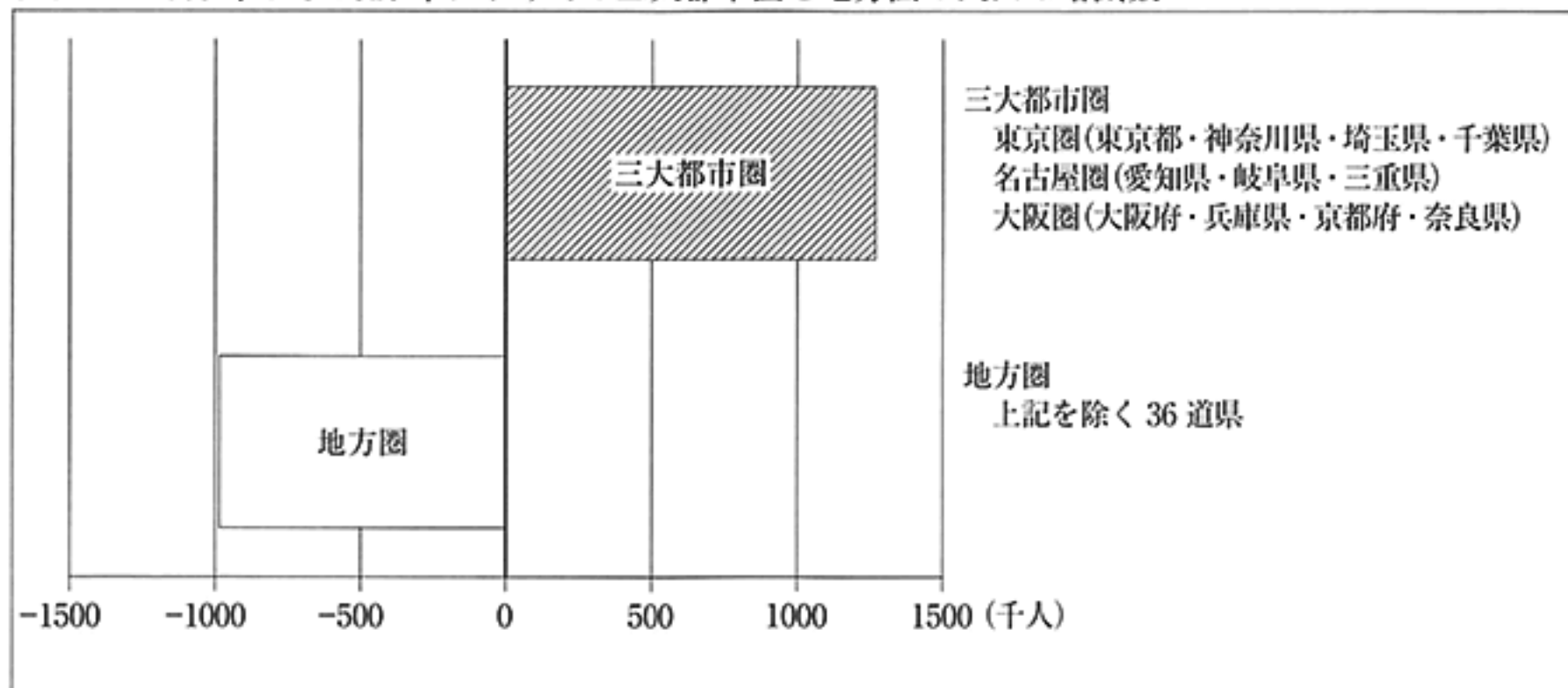
1. 終身雇用によって所得格差を縮小しようとしている。
2. 経済状況の変化にすばやく対応しようとしている。
3. ボランティア活動など社会的に意義のある活動を推進しようとしている。
4. 勤務年数に応じて賃金が上がるしくみを整え、労働意欲を高めようとしている。

(エ) 一線④に関して、次のグラフは、2005年から2010年にかけての人口の増減数を三大都市圏と地方圏に分けて示したもので、資料Ⅰ、資料Ⅱは、雇用と移住についての政府の考え方と、<sup>(注)</sup>ハローワーク（公共職業安定所）を通した取り組みの一部を示したものである。

グラフから読みとれる課題を書き、その上で、移住、働き口という二つの語句をそれぞれそのまま用いて、政府がハローワーク（公共職業安定所）を通してどのように課題を解決しようとしているのかを書きなさい。なお、文末は句点（。）で終わること。

(注) ハローワーク（公共職業安定所）：職業紹介や就職支援などをするための公的な機関

グラフ 2005年から2010年にかけての三大都市圏と地方圏の人口の増減数



(『日本の統計2016年版』(総務省)をもとに作成)

### 資料Ⅰ

地方への移住を検討している者の最も多くが、「働き口が見つからないこと」に対して移住する上での不安・懸念を感じているとされる。失業率や有効求人倍率をみると、地方においても雇用情勢は改善してきており、「働き口」そのものは存在するものと考えられる。

(『平成27年版 労働経済の分析』(厚生労働省)から)

### 資料Ⅱ

(地方での就職を希望される方へ)

この事業では、東京都及び大阪府のハローワークに地方就職支援コーナーを設置し、全国各地方の求人情報などの提供を行っています。

(人材の受け入れを希望される企業の方へ)

大都市圏に在住の求職者の受け入れを希望する事業主の方で地方就職支援コーナーへ求人登録を希望される方は、最寄りのハローワークにお申し込みください。

(厚生労働省ウェブサイト掲載資料から)

(問題は、これで終わりです。)

問1	(ア)	(イ)	(ウ)	(エ)	(オ)
	2	1	7 時間	3	8

問2	(ア)	(イ)	(ウ)		(エ)
	2	3	(i) 6	(ii) 1	4

問3	(ア)	(イ)	(ウ)	(エ)	
	3	3	4	お	か
				3	1

(オ)
勘合

問4	(ア)		(イ)	(ウ)
	(i) 1	(ii) 3	2	1
	(エ)			
	(i)		(ii)	
	1930年に生糸の輸出額が減少したことで、まゆの価格が下がったため。		1930年の稲の豊作により、米の価格が下がったため。	
	(オ)			
	1			

問5	(ア)	(イ)	(ウ)	(エ)	
	4	3	4	(i) 3	(ii) 5

問6	(ア)	(イ)	(ウ)
	2	4	2

(エ)
三大都市圏に人口が集中し、地方圏では人口が減少しており、対策として政府は、地方への移住を検討している者と求職者の受け入れを希望する事業主を引き合わせて働き口が見つからないこと の不安を解消しようとしている。

問	配点
1	(ウ)は4点 他は各3点 計16点
2	各3点 計15点
3	(エ)は両方 できて3点 (オ)は4点 他は各3点 計16点
4	(エ)の(i), (ii) は各4点 他は各3点 計23点
5	各3点 計15点
6	(エ)は6点 他は各3点 計15点
計	100点