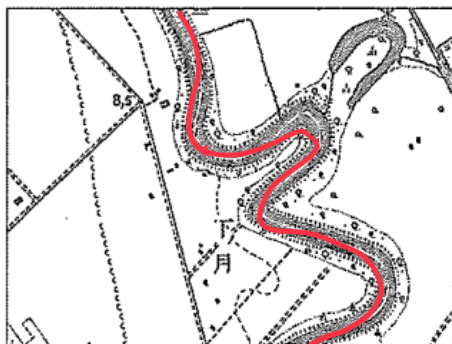


(ウ) ー線①に関して、次の文 a～dのうち、ロシアの特徴について説明したものの組み合わせとして最も適するものを、あとの1～4の中から一つ選び、その番号を答えなさい。

- a 国土の面積が世界で最も大きい国である。
- b ~~x~~ 人口が世界で最も多い国である。→ 中国
- c 原油や天然ガスが、パイプラインを通じて外国へ輸出されている。
- d ~~x~~ 世界全体のパソコンの9割以上が生産されている。

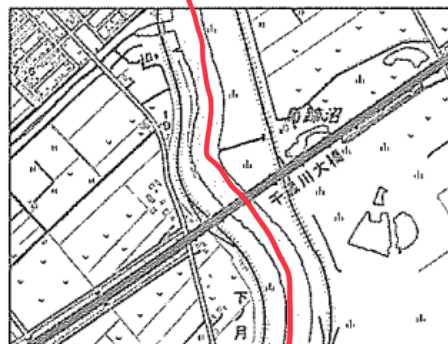
1. a, c 2. a, d 3. b, c 4. b, d

地形図 1



(「2万5千分の1の地形図 大日本国陸地測量部作成 (大正5年測量)」)

地形図 2



(「2万5千分の1の電子地形図 国土地理院作成 (令和2年調製)」)

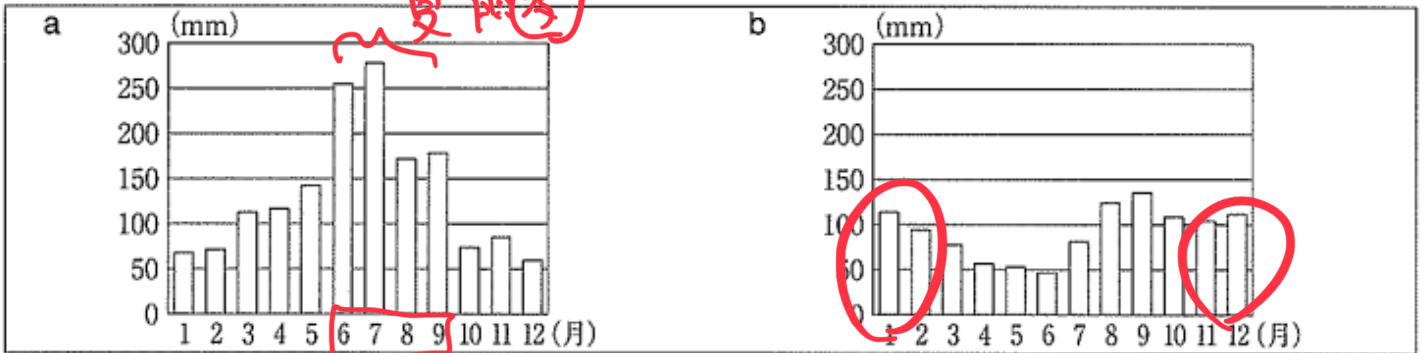
(イ) ー線①に関して、地形図1, 地形図2から読み取れることについて説明した次の文 X, Yの正誤の組み合わせとして最も適するものを、あとの1～4の中から一つ選び、その番号を答えなさい。

- X 大正時代から現在までのあいだに、道路が整備され橋が架けられた。
- ~~X~~ 大正時代から現在までのあいだに、河川の流路が大きく蛇行するようになった。

1. X : 正 Y : 正 2. X : 正 Y : 誤 3. X : 誤 Y : 正 4. X : 誤 Y : 誤

(エ) 線③に関して、次の a, b のグラフは、札幌市 福岡市のいずれかにおける降水量をそれぞれ表したものである。このことについて説明したあとの文中の [う] ~ [お] にあてはまるものの組み合わせとして最も適するものを、1~4の中から一つ選び、その番号を答えなさい。

グラフ



(気象庁ウェブサイト掲載資料 (1981 ~ 2010) をもとに作成)

a のグラフから [う] ことが読み取れます。このことと、[え] という知識をあわせて考えると、a のグラフは [お] 市の降水量を表したものであると判断することができます。

1. う : 6 ~ 9 月における月ごとの降水量が、すべて 150mm を上回っている
 え : 夏から秋にかけて九州地方を多くの台風が通過する [お] 福岡
2. う : 6 ~ 9 月における月ごとの降水量が、すべて 150mm を上回っている
 え : 梅雨の時期がないことが北海道地方の気候の特色である お : 札幌
3. う : 5 ~ 7 月における月ごとの降水量が、すべて 100mm を下回っている
 え : 夏から秋にかけて九州地方を多くの台風が通過する お : 福岡
4. う : 5 ~ 7 月における月ごとの降水量が、すべて 100mm を下回っている
 え : 梅雨の時期がないことが北海道地方の気候の特色である お : 札幌

(オ) 線④に関して、次の表から読み取れることとして最も適するものを、あとの1～4の中から一つ選び、その番号を答えなさい。

表 地方ごとの畜産産出額（平成30年）

（単位：億円）

地 方	肉用牛	乳用牛	豚	鶏	その他	地方別合計
九 州	3,348	830	1,949	2,583	41	8,751
北 海 道	1,016	5,026	439	357	509	7,347
関 東	684	1,300	1,637	1,480	32	5,133
東 北	1,042	706	978	1,680	40	4,446
そ の 他	1,326	1,477	1,101	2,899	109	6,912
品目別合計	7,416	9,339	6,104	8,999	731	32,589

（総務省統計局ウェブサイト掲載資料をもとに作成）

1. 北海道の「地方別合計」は、「地方別合計」の総額の5割を上回っている。
2. 「鶏」の「品目別合計」は、「品目別合計」の総額の5割を上回っている。
3. 北海道の「豚」は、北海道における畜産の品目の中で、最も産出額が大きい。
4. 九州の「肉用牛」は、他の地方における肉用牛の額と比べてとき、最も産出額が大きい。

(イ) カードⅡに関して、次の文は、法の下での平等の理念を実現するために制定された法律について説明したものである。この文中の [い] にあてはまるものを、あとのA、Bの中から一つ選び、その記号を書きなさい。また、 [う] にあてはまる語句をカタカナ3字で書きなさい。

○昭和60年に制定された「男女雇用機会均等法」^{11 1985}では、雇用における女性差別が禁止されました。

この法律では、[B] とされています。

○平成9年に制定された「[う] 文化振興法」^{P12}では、古くから北海道、樺太、千島列島を中心に独自の言葉と文化をもって生活してきた [う] の伝統を尊重することが求められています。この法律は、「[う] の人々の誇りが尊重される社会を実現するための施策の推進に関する法律」が施行されたことを受けて、廃止されました。

- A 社会における制度又は慣行が男女の社会における活動の選択に対して及ぼす影響をできる限り中立なものとするように配慮されなければならない → Aは1999の男女共同参画社会基本法
- B 事業主は、労働者の募集及び採用について、その性別にかかわらず均等な機会を与えなければならない

「モード」 ← 「逆が正」

(ア) —線①に関して、「効率」の考え方について説明したものとして最も適するものを、次の1～4の中から一つ選び、その番号を答えなさい。

公正だからX

1. 合意の内容が、他人の権利や利益を不当に侵害していないかどうかを重視する考え方。
2. 合意の内容が、無駄を省き最大の利益が得られるものになっているかどうかを重視する考え方。
3. 関係者の全員が、合意を得るための話し合いに参加できているかどうかを重視する考え方。
4. 関係者の全員が、合意を得るための決定方法に納得できているかどうかを重視する考え方。

(イ) —線②に関して、あとの各問いに答えなさい。

(i) 日本国憲法について説明した次の文X, Yの正誤の組み合わせとして最も適するものを、あとの1～4の中から一つ選び、その番号を答えなさい。

X あり

X 日本国憲法は、国の最高法規であって、条文を改正する仕組みをもっていない。

Y 日本国憲法には、すべての国民が生存権を有すると定められている。25条OK.

1. X : 正 Y : 正 2. X : 正 Y : 誤 3. X : 誤 Y : 正 4. X : 誤 Y : 誤

3

(エ) —線④に関して、次の資料は、平成31年に制定された神奈川県条例の一部である。この資料から読み取れることについて説明した文X、Yと、条例についての説明文 a、bの組み合わせとして最も適するものを、あとの1～4の中から一つ選び、その番号を答えなさい。

資料

第5条 自転車利用者は、…(中略)…車両の運転者としての責任を自覚し、自転車を安全かつ適正に利用するため、自転車に関係する交通事故の防止についての知識を習得するとともに、自転車の利用に当たって必要な安全上の措置を講ずるよう努めなければならない。

第16条 自転車利用者は、その利用に係る自転車損害賠償責任保険等に加入しなければならない。
ただし、当該自転車利用者以外の者が、当該利用に係る自転車損害賠償責任保険等に加入しているときは、この限りでない。

保険
人。
↑
「保護者など」

(神奈川県ウェブサイト掲載資料より抜粋)

読み取れること	<p>X 「自転車利用者」は、車両の運転者としての責任を自覚するとともに、自転車に関係する交通事故の防止についての<u>知識を習得することが求められている</u>。</p> <p>Y 「自転車利用者」は、当該自転車利用者以外の者が、当該利用に係る自転車損害賠償責任保険等に加入していない場合であっても、<u>自転車損害賠償責任保険等に加入する必要はない</u>。 X</p>
説明文	<p>a 地方議会の役割の一つは、条例を制定することである。</p> <p>b 条例の制定について内閣総理大臣に請求することは、直接請求権の一つである。</p>

- ① 1. Xとa 2. Xとb 3. Yとa 4. Yとb

↑
X
↑
国は関係ない。

1 大津市の様子

地形図

大津市は、滋賀県の県庁所在地です。次の地形図は、大津市の一部を示したものです。



〔2万5千分の1の電子地形図 国土地理院作成（令和2年調製）〕一部改変

地形図上のアで示した□の地図記号は、自然災害に見舞われたときの様子や教訓が刻まれた「自然災害伝承碑」を表したものです。右の資料1は、アで示した位置にある碑に刻まれた内容について説明したものです。

資料1

明治29(1896)年9月3日から12日の間に1008ミリの雨量を記録し県内で死者・行方不明者34名などの大きな被害をもたらしている。あが増水し、しもさかもと下阪本村では全村700戸のすべてが浸水した。

(国土地理院ウェブサイト掲載資料をもとに作成)

(イ) 資料1中のあにあてはまる、地形図上のイで示したものの名称として最も適するものを、次の1～4の中から一つ選び、その番号を答えなさい。

- 1. 日本海
- 2. 霞ヶ浦 かすみがうら
- 3. 大阪湾
- 4. 琵琶湖

滋賀県なの？