

1 年 () 組 番号 () 氏名 ()

1、次の年表をみて、問いに答えなさい。(20 点)

年代	10 世紀 中ごろ	1086	1167	1185	1221	1282
おびなぶ	武士がおこり、しだいに武士団が形成される。	始める。 白河上皇が院で政治を	なる。 武士が初めて太政大臣に	鎌倉幕府を開く。	承久の乱が起こる。	を定める。 御成敗式目(貞永式目)
		A	B		C	D

- (1) Aの白河上皇が行った政治を何とといいますか。
- (2) Bの位についた人物の名を下から選び記号で答えなさい。
ア 平将門 イ 平宗盛 ウ 源義朝 エ 平清盛
- (3) Cについて、この乱の後、朝廷の監視と西国武士の取り締まりのために、京都に置かれた役所を何とといいますか。
- (4) Dの法律を定めた第8代執権の名前を答えなさい。
- (5) 鎌倉時代に始まった、米の裏作に麦をつくる農業の方法を何とといいますか。
- (6) 鎌倉時代の新しい仏教について、次の①～④に適する僧を、下の語群からそれぞれ一人ずつ選んで答えなさい。(各1点)
①浄土真宗を開く。 ②法華経の題目を唱える。
③浄土宗を開く。 ④宋より禅宗を伝える。


語群 一遍 栄西 親鸞 日蓮 法然

- (7) 新しい仏教が人々の心をとらえた理由を、簡単に答えなさい(思)
- (8) 右のEは、口語を交えたわかりやすい文章で、源平の争乱での武士の活躍をえがいた軍記物の冒頭部分である。この軍記物を何とといいますか。(技)
- (9) 次のア～ウを、年代の古い順に並べて、記号で答えなさい。(思)
ア 源義経が平氏を滅ぼす。
イ 平清盛が平治の乱に勝利する。
ウ 後鳥羽上皇が鎌倉幕府に破れる。

E
 祇園精舎の鐘の聲、
 諸行無常の響きあり。
 沙羅双樹の花の色、
 盛者必衰のころわりを
 あらわす。

2、次の問いに答えなさい。(10 点)

- (1) 中国の国号を元と定めて皇帝となり資料1にえがかれているように日本を従わせようと軍隊を送った人物はだれですか。(技)
- (2) 元軍が2度にわたって日本をおそったできごとを総称して何とといいますか。
- (3) (2)のあと、幕府が徳政令を出して借金を帳消しにした目的を簡単に書きなさい。(思)
- (4) 政治の実権を朝廷に取り戻そうと考えて、鎌倉幕府をほろぼす戦いを始めた資料2の天皇は誰ですか。(技)
- (5) 幕府や荘園領主に従わない、近畿地方などの武士はなんとよばれていましたか。



3、室町時代について、次の問いに答えなさい。(10 点)

- (1) 年貢など物資の陸上輸送を扱った業者を何とといいますか。
- (2) 商人や手工業者などが、同業者ごとにつくった団体を何とといいますか。
- (3) 農村で、村ごとにつくられた農民の自治的な組織を何とといいますか。
- (4) 室町時代の産業について述べた文として適するものを、次のア～エから1つ選び、記号で答えなさい。(思)
ア 鎌倉時代と比べて、二毛作が減り、収穫が減った。
イ 各地に港町や、寺社の門前町が成立した。
ウ 年貢や土地について、地頭と領主の間でたびたび争いが起こった。
エ 武士と農民の身分がはっきりして近世のしくみが固まった。
- (5) 下の資料は、団結した農民が借金帳消しを求めて行動を起こし、その成果を宣言したものである。このように、農民が起こした、集団で土倉や酒屋をおそう行為を何とといいますか。(技)

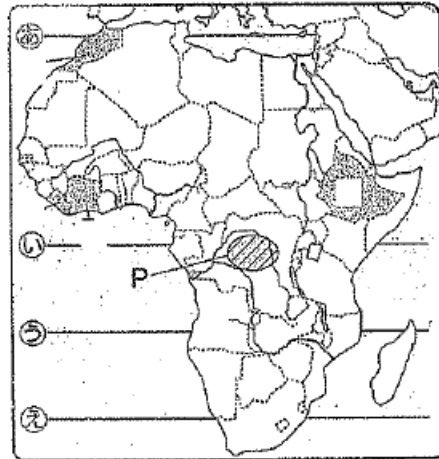
資料
 正長元年ヨリ
 サキ者 (は) カンへ (神戸)
 四カンカウ (4か郷) ニ
 オイメ (負債) アルヘカヘス

4、次の問いに答えなさい。(10点)

- (1) 中世の政権の動きについて述べた、次のア～エの文を、年代の古い順に並べ替え、記号で書きなさい。(思)
- ア 北条氏が執権になる。 イ 南北朝が統一する。
ウ 応仁の乱が起こる。 エ 蘆ノ浦で平氏がほろびる。
- (2) 中世の外国とのかかわりについて述べた、次のア～エの文を年代の古い順に並べ替え、記号で書きなさい。(思)
- ア 足利義満が日明貿易(勘合貿易)をはじめめる。
イ 高麗を従えた元の軍勢が、2度にわたり日本に襲来する。
ウ 平清盛が港を整備して、中国の宋との貿易を行う。
エ 尚氏が琉球王国を建て、中継貿易を行う。
- (3) 中世に定められた法令やできごとについて述べた、次のア～エの文を、年代の古い順に並べ替え、記号で書きなさい。(思)
- ア 永仁の徳政令が出される。 イ 全国に地頭の設定が認められる。
ウ 城下町が各地でつくられる。 エ 御成敗式目(貞永式目)が定められる。
- (4) 応仁の乱のころから、下剋上の風潮が広まり、各地に戦国大名が登場するようになりました。下剋上の意味を、簡単に書きなさい。(思)
- (5) 戦国大名が、武士や農民を支配するために独自でつくった法を何と言いますか。

5、次の問いに答えなさい。(10点)

- (1) 地図中のあ～えのうち、赤道はどれか答えなさい。(技)
- (2) Pの地域の説明に適するものを、次のア～エから1つ選びなさい。(思)
- ア 雨が少なく、サハラさばくが広がっている。
イ 人口が集中し、都市が多い。
ウ 温帯に属している。
エ 森林が広がる熱帯の地域。
- (3) アフリカ大陸では、16世紀から19世紀の間に、人口の流出が続いていた。この理由を簡単に書きなさい。(思)
- (4) アフリカは直線の国境が多い。これらの国境は何に沿って引かれたものか。2つ書きなさい。(思)



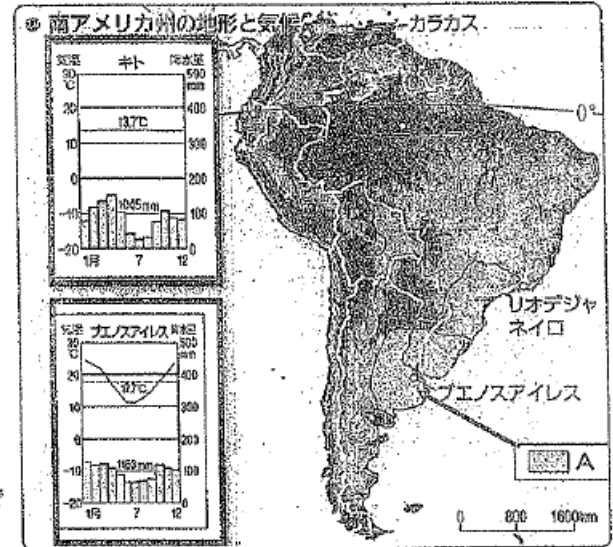
6、地図を見て、次の問いに答えなさい。(10点)

- (1) 地図中のあ・いの地域で栽培されている農産物を、下の語群からそれぞれ選んで書きなさい。(技)
- 語群** 米 とうもろこし たばこ 小麦
- (2) 適地適作とはどのような農業か簡単に書きなさい。(思)
- (3) アメリカの農業経営の特徴を、日本の農場と比較しながら、次の語句を用いて簡単に説明しなさい。(思)
- [面積 労働力]
- (4) アメリカの農業に適するものを、次のア～エから1つ選びなさい。(思)
- ア 生産量をおさえるために、バイオテクノロジーが利用されている。
イ 農地は広いが、人手が少ないために生産量が少ない。
ウ 農場のほとんどが家族経営であり、企業は参加していない。
エ 生産された農産物の多くが輸出に向けられている。



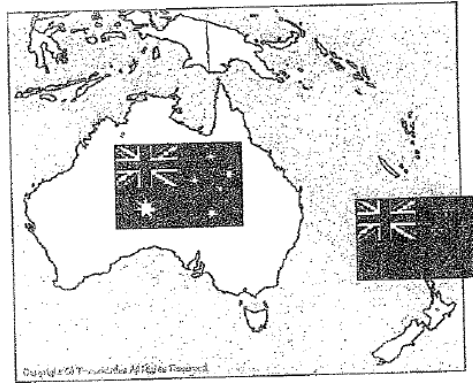
7、次の問いに答えなさい。(10点)

- (1) 地図中のAの草原地帯を何というか。
- (2) 流域面積が世界一の川を何というか。
- (3) キトは、赤道に近いが、年間の平均気温が比較的低い。この理由を簡単に書きなさい。(思)
- (4) ブエノスアイレスの7月、8月の平均気温が低い理由を簡単に書きなさい。(思)
- (5) 南アメリカ州の文化や産業について間違っているものを、次のア～エから1つ選び記号で書きなさい。(思)
- ア 白人と先住民の混血者はヒスパニックと呼ばれている。
イ 多くの日本人が、20世紀に南アメリカに移住した。
ウ 最近、環境破壊が進み、開発と環境保護の両立が課題となっている。
エ 大規模農業がさかんになり、バイオエタノールの生産が増えた。




8、次の問いに答えなさい。(10点)

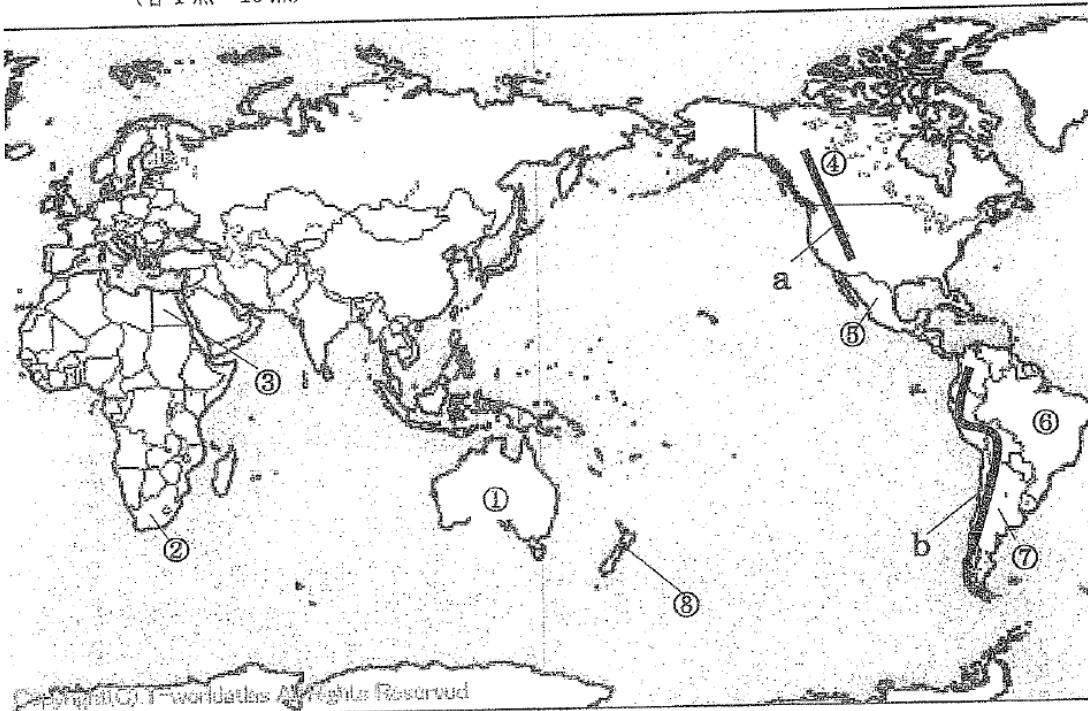
- (1) オセアニア州の国々の国旗の中に、イギリスの国旗がふくまれている理由を簡単に書きなさい。(思)
- (2) グラフIを見て、2010年のオーストラリアの貿易相手国上位5カ国のうち、1960年には上位に含まれていなかった国をすべて選び、国名を書きなさい。(技)
- (3) グラフIの中で、1960年と2010年の貿易相手上位国を世界の6州別に分類するとそれぞれ何州の割合が最も大きいか。州名を書きなさい。(技)
- (4) グラフIを見て、オーストラリアの貿易相手国はどのように変化したか、簡単に書きなさい。ただし、世界の6州をうちの2つの州名を入れること。(技)



● オーストラリアの貿易相手国の変化



9、下の地図の①～⑧にあてはまる国名を書きなさい。また、a、bの山脈を答えなさい。(各1点 10点)



第1年3学期社会期末テスト		組	番	氏名
1	1 院政	2 エ	3 六波羅探題	4 北条泰時
20 点	5 二毛作	6 ① 親鸞	② 日蓮	③ 法然
	7 ☆わかりやすく実行しやすかったから	8 ㊦平家物語	9 ☆ イ → ア → ウ	
2	1 ㊦フビライ・ハン	2 元寇	3 ☆元との戦いでは十分な恩賞がもらえず、御家人の生活が苦しくなったから。	
10 点	4 ㊦後醍醐天皇	5 悪党		
3 10 点	1 馬借	2 座	3 惣	4 ☆ イ
4 10 点	1 ☆エ → ア → イ → ウ		2 ☆ウ → イ → ア → エ	3 ☆イ → エ → ア → ウ
	4 ☆実力のあるものが、力を伸ばして上の身分のものに打ち勝つこと。			5 分国法
5 10 点	1 ㊦ い	2 ☆ エ	3 ☆多くが奴隷として連れ出されたため。	
	4 ☆ 緯線		☆ 経線	
6 10 点	1 ㊦あ 小麦	㊦い どうもろこし	2 ☆自然環境に適した農産物を生産すること。	
	3 ☆日本の農場よりもはるかに広く、少ない労働力で広い面積を経営する。			4 ☆ ア
7 10 点	1 A パンパ	2 アマゾン川	3 ☆標高が高く、高地に位置しているため。	
	4 ☆南半球は、季節が逆なため。			5 ☆ ア
8 10 点	1 ☆以前、植民地であったため。		2 ㊦中国 韓国 インド	
	3 ㊦1960年 ヨーロッパ州	㊦2010年 アジア州	4 ㊦ヨーロッパ州からアジア州に変化している。	
9 10 点	1 オーストラリア	2 南アフリカ	3 エジプト	4 カナダ
	6 ブラジル	7 アルゼンチン	8 ニュージーランド	a ロッキー山脈
			b アンデス山脈	

思考・判断・表現 38点	技能 22点	知識・理解 40点	合計 100点
--------------	--------	-----------	---------