

1 次の年表を見て、下の問いに答えなさい。

年表	できごと
1868	新しい政治の方針として(①)を定める
1869	藩主に土地と人民を政府に返させる(②)を行う
1871	a 廃藩置県が行われる
1872	b 学制が發布される
1873	c 徴兵令 d 地租改正が行われる
1874	(③)を提出し、議会の開設を求める
1875	朝鮮との間で(④)が起きる
1877	西郷隆盛を中心として(⑤)が起きる
1879	(⑥)により沖縄県が配置される
1889	(⑦)が發布される

- (1) 年表の①～⑦に当てはまる語句をそれぞれ書きなさい。
- (2) 下線部 a について、明治政府が廃藩置県を行い、府知事・県令を派遣した目的を「**国家**」という語句を用いて簡単に説明しなさい。
- (3) 下線部 b・c・d は明治政府が進めた3つの改革です。  
 ① 学制について説明した次の文章のあといに当てはまる語句の組み合わせとして正しいものをア～エのうちから一つ選び、**記号**で答えなさい。

学制では(あ)以上の全ての(い)を小学校に通わせることが義務づけられた。

ア、あ：満6歳            い：男子            イ、あ：満7歳            い：男子  
 ウ、あ：満6歳            い：男女            エ、あ：満7歳            い：男女

- ② 地租改正に関する【資料1】のあ～えに当てはまる語句をそれぞれ答えなさい。

【資料1】

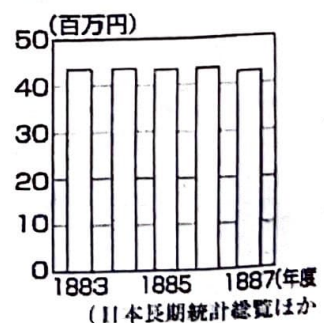
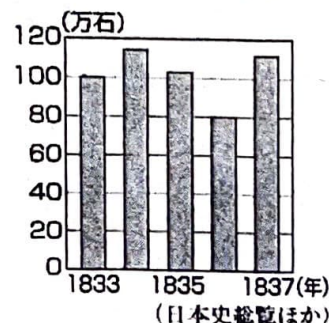
	改正前	改正後
課税基準	収穫高	(あ)
税率	全国的に不統一	(あ)の(い)% (のちに(う)%へ)
納税	米などで納める	(え)で納める
納税者	年貢負担者	土地所有者

- ③ 地租改正について【資料2】は1833年から1837年の幕府領における米の収穫高の推移を示しています。

【資料2】

【資料3】

【資料3】は1883年度から1887年度の全国における、地租の総額の推移を示しています。政府が地租改正を行った目的を、【資料2】【資料3】から読み取れることに関連付けて簡単に説明しなさい。



- ④ 徴兵令で兵役の義務を負わされた人たちを**全て選び、記号**で答えなさい。  
 ア、満18歳の平民      イ、満18歳の士族      ウ、一家の主人やあとつぎ  
 エ、満20歳の平民      オ、満20歳の士族

(5) 明治政府の行った

- ① 経済を発展させ、軍隊を強くすることを目指した政策を何といいますか。  
 ② 西洋の知識や技術を取り入れ、近代産業を育成し、経済の資本主義化を図った政策を何といいますか。  
 ③ ②と関係のあるものを**全て選び、記号**で答えなさい。  
 ア、鉄道が開通した      イ、ラジオ放送が始まった  
 ウ、郵便制度が整えられた      エ、富岡製糸場が作られた

(6) 政府は江戸幕府が幕末に結んだ不平等条約の改正のために欧米に使節を派遣しました。この使節を何といいますか。

(7) 政府はアイヌや沖縄の人々に対して、伝統的な風習や文化を否定し、ある共通の政策を採りました。その内容を、**政策の名称を使って**簡単に説明しなさい。

(8) 年表中③を提出し、議会の開設を要求した人物は誰ですか。またこの人物が党首をつとめた政党を何といいますか。


(9) 年表中③をきっかけとして始まった自由民権運動とはどのような運動ですか、簡単に説明しなさい。

(10) 日本の初代内閣総理大臣をつとめた人物は誰ですか。

(11) 【資料4】は、第1回衆議院議員選挙の様子を示しています。次の文の**あと**いに当てはまる語句の組み合わせとして正しいものを一つ選び、**記号**で答えなさい。

選挙権が与えられたのは、直接国税を15円以上納めた、満 **あ** 以上の男子のみで、総人口の1.1%にすぎなかった。また、その後開かれた帝国議会は、衆議院と **い** の二院制であり、法律を作ったり予算を決めたりする権限があった。

【資料4】




- |          |         |
|----------|---------|
| ア、A : 20 | B : 貴族院 |
| イ、A : 20 | B : 参議院 |
| ウ、A : 25 | B : 貴族院 |
| エ、A : 25 | B : 参議院 |

2 次の資料を見て、下の問いに答えなさい。

【資料1】

【資料2】

【資料3】



(1) 19世紀後半に、欧米諸国が武力でアジアなどに植民地を広げた動きを何といいますか。

(2) 【資料1】はイギリス船が沈没し、日本人乗客が水死した事件を風刺して描かれたものです。

①この事件を何といいますか。

②この事件をきっかけとして国内では条約改正の声が高まりました。日本と欧米諸国との条約改正までの流れを説明した次の文のあ～おに当てはまる語句をそれぞれ答えなさい。

外務卿の(あ)は鹿鳴館での舞踏会など(い)政策を採りました。また(う)の提案にも国内からの反対の声が相次ぎ、改正に失敗しました。しかし、1894年に(え)が日英通商航海条約を結び、(お)の撤廃に成功しました。

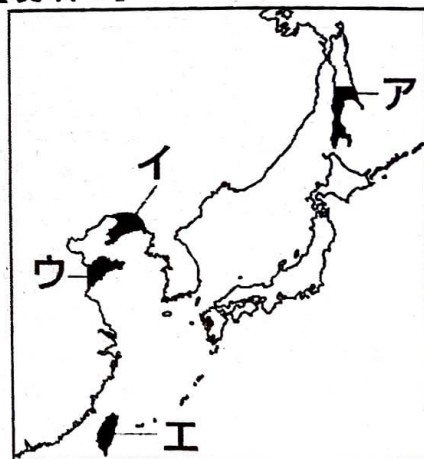
(3) 【資料2】は日清戦争前の東アジアの情勢を風刺したものです。

①日清戦争が起こった原因を【資料2】を参考にして、簡単に説明しなさい。

②日清戦争の講和条約をなんといいますか。

③②の条約が結ばれた直後、ロシア、ドイツ、フランスの三国は日本がこの条約で得たある地域を清に返すように勧告してきました。このことを何といいますか、またその地域を【資料4】の中のア～エの中から1つ選び、記号で答えなさい。

【資料4】



(4) 【資料3】は日露戦争前の東アジアの情勢を風刺したものです。

①日露戦争の講和条約をなんといいますか。

②日露戦争に出兵した弟を思って詩を発表し、当時の社会に影響を与えた人物は誰ですか。

③①の条約に反対する民衆が、警察や新聞社などを焼き打ちする日比谷焼き打ち事件が起きました。この事件が起きた理由を、【資料5】を参考にして簡単に説明しなさい。

【資料5】

日清戦争と日露戦争の比較




	日本軍の死者	日本側の軍事費	賠償金
日清戦争	約1万人	約2億円 (当時の国家予算の約2倍)	約3億6千万円
日露戦争	8万人以上	約15億円 (当時の国家予算の約6倍)	なし

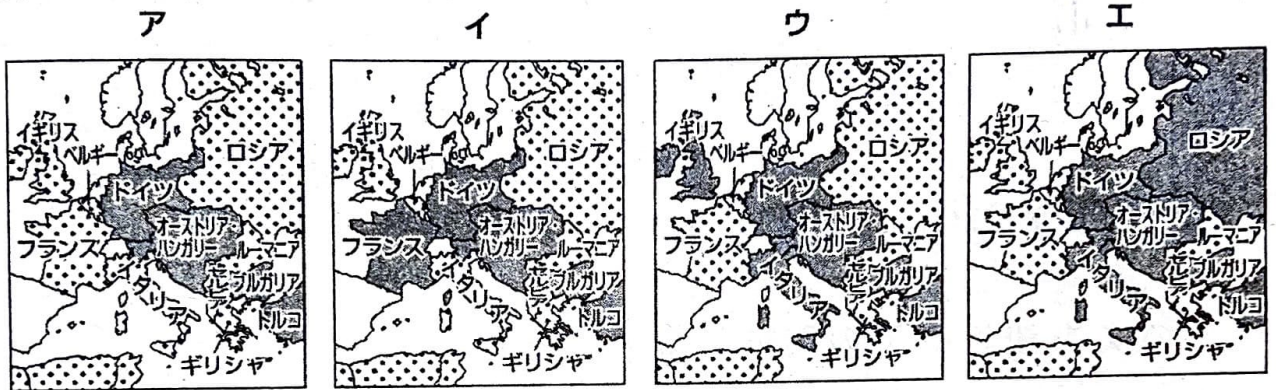
3 岡野さん、飯塚さん、新島さんは第一次世界大戦時の世界の情勢についてヨーロッパ・アジア・ロシアのそれぞれの視点から考え、メモを書きました。3人のメモを見ながら下の問いに答えなさい。

岡野さん a 第一次世界大戦が始まるまでの流れ d 大戦後のヨーロッパ	飯塚さん b 日本が与えた影響 ・イギリスが与えた影響	新島さん ・第一次世界大戦までの流れ c 社会主義運動
---	-----------------------------------	-----------------------------------

(1) 下線部 a について述べた下の文のあ～うに当てはまる語句をそれぞれ答えなさい。

ヨーロッパの **あ** とも呼ばれていたバルカン半島にあるサラエボで **い** の皇太子夫妻が暗殺された **う** をきっかけとして第一次世界大戦がスタートした。  
サラエボ

(2) 第一次世界大戦について、ヨーロッパの連合国側と同盟国側の国々(1916年頃)を示した地図を次のア～エのうちから一つ選び、記号で答えなさい。ただし、 は連合国側、 は同盟国側の国々を、また  は中立国をそれぞれ表しています



(3) 第一次世界大戦の講和会議はパリで結ばれました。この会議で結ばれた講和条約をなんといいますか。

(4) 下線部 b について

① 次の文を読んで X と Y に当てはまる語句の組み合わせとして正しいものをア～エから一つ選び、記号で答えなさい。


パリ講和会議で中国にある **X** の権益を日本が引き継ぐことが認められると、北京で学生が講和条約反対運動を起こした。後に五・四運動と呼ばれるこの動きは全国に広がった。同じころインドではガンディーが **Y** の運動を起こした。

ア、X：ドイツ Y：非暴力・不服従    イ、X：ドイツ Y：三民主義  
ウ、X：フランス Y：非暴力・不服従    エ、X：フランス Y：三民主義

② 五・四運動と同じ年、朝鮮でも日本からの独立を求める運動が起きました。これを何といいますか。


③ 日本は第一次世界大戦中に工業生産額が大幅に増加しました。その理由について「輸出」という語句を使って簡単に説明しなさい。 【資料1】

諸産業の生産額の変化



- (5) 下線部 c について、ロシア国内では社会主義運動が拡大していました。
- ① 第一次世界大戦中にロシア国内で起きた革命を何といいますか。またその指導者は誰ですか。
  - ② イギリスやフランス、日本はロシアに対して干渉戦争を行いました。このことを何といいますか。また、この戦争を起こした理由について簡単に説明しなさい。
  - ③ ロシアが②の戦争に勝利した後、1922年に成立した国を何といいますか。
- (6) 下線部 d について
- ① アメリカのウィルソン大統領の提案によって作られた世界平和と国際協調のための組織を何といいますか。
  - ② 【資料2】は、主な国の①への加盟期間を示したものです。ア～エにはアメリカ、イギリス、ドイツ、日本のいずれかが当てはまります。日本に当てはまるものをア～エのうちから一つ選び記号で答えなさい。

【資料2】



③①の国際機関が大きな影響力を持たなかった理由を、簡単に説明しなさい。

4 次の文を読み、下の問いに答えなさい。

- ・ 1912年、桂内閣に対して a 第一次護憲運動が起きた。
- ・ 民主主義運動も活発になり、b 大正デモクラシーの風潮が広まった。
- ・ 1925年、c 当時の内閣は d 2つの法律を制定した。

- (1) 下線部 a について、護憲運動とはどのような運動ですか、簡単に説明しなさい。
- (2) 下線部 b について
  - ① 大正デモクラシーの中心となった2人の人物の名前を答えなさい。
  - ② 民主主義運動が活発になる中で、差別からの解放運動が盛んになった。【資料1】と【資料2】はそれぞれ何を求めた宣言なのか、次のア～エのうちから一つ選び記号で答えなさい。

【資料1】(部分要約)

全国に散在する人々よ、団結せよ。  
自らを解放しようとする運動を起こしたのは当然のことである。  
人の世に熱あれ、人間に光りあれ。

【資料2】(部分要約)

元始、女性は実に太陽であった。  
真正の人であった。  
今、女性は月である。

- ア、女性の参政権
- ウ、女性差別からの解放

- イ、差別からの解放
- エ、労働組合の結成

- (3) 下線部 c について、当時の内閣総理大臣は誰ですか。

(4) 下線部 d について

① 2つの法律とは何のことか、それぞれ答えなさい。

② 1925年には有権者が大幅に増えました。その理由を選挙権が与えられた条件に触れて簡単に説明しなさい。

5 下の年表を見て、問いに答えなさい。

年表	できごと
1922	イタリアの(①)が首相へ
1923	東京・千葉を中心として(②)が起きる → (③)恐慌が起きる
1929	アメリカを中心として a <u>世界恐慌</u> が起きる
1931	(④) → b <u>満州事変</u>
1932	c <u>五・一五事件</u>
1933	ドイツの(⑤)が首相へ
1936	d <u>二・二六事件</u>
1937	(⑥) → e <u>日中戦争</u>
1938	近衛内閣で(⑦)法が出される

(1) 年表の①～⑦に当てはまる語句をそれぞれ書きなさい。

(2) ドイツやイタリアで採られた、個人の自由や民主主義を否定する考えを何といいますか。またその考えのもとで行われた独裁政治体制を何といいますか。

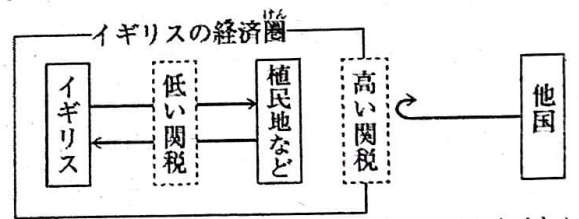
(3) 下線部 a に対して世界の国々は様々な対策をとりました。

① アメリカが行った政策を何といいますか。

② ①の政策を行った目的を「公共事業」という語句を使って簡単に説明しなさい。

③ 【資料1】はイギリスが世界恐慌の混乱に対してとったブロック経済についてまとめたものです。資料を参考に「植民地」「関税」という語句を使って簡単に説明しなさい。

【資料1】



(※→は商品の流れを示す。)

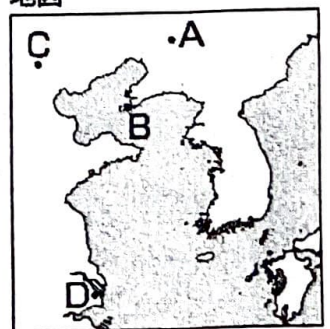
(4) 下線部 c・d について

① cの事件で暗殺された首相は誰ですか。

② cとdの事件の結果、日本の政治はどのように変化しましたか、簡単に説明しなさい。

(5) 下線部 b・e について、満州事変と日中戦争のきっかけとなった事件が発生した場所を地図中のA～Dのうちからそれぞれ選び、その正しい組み合わせを次のア～エのうちから一つ選び、記号で答えなさい。

地図



ア、満州事変：A 日中戦争：C

イ、満州事変：A 日中戦争：D

ウ、満州事変：B 日中戦争：C

エ、満州事変：B 日中戦争：D

- (6) 日中戦争前には中国国内の共産党と国民党が日本に対抗するために協力体制を築きました。これを何といいますか。
- (7) 1940年には日本国内で国を一丸とする強力な政治体制をとるために、政党を解散して合流させ、新たに組織を結成しました。これを何といいますか。

**問題は以上です。しっかり見直しをしましょう。**

3 学年 前期中間テスト 解答用紙  
3 年 組 番 氏名

1			
(1)①五箇条の御誓文	② 書籍奉還	③ 民撰議院設立の 建白書	④ 江華島事件
⑤ 西南戦争	⑥ 琉球処分	⑦ 大日本帝国憲法	
(2) 中央集権国家をつくるため。			(3)① ウ
② あ 地価	い 3	う 2. 5	え 現金
③ 収穫高が年により上下することから収入は不安定だったので、地価を基準として安定した収入を確保できるようにするため			④ エ、オ
(5)①富国強兵	②殖産興業	③ア、ウ、エ	(6)岩倉使節団
(7) 日本の風習や文化に合わせるための同化政策。			(8)人物 板垣退助
(8)政党 自由党	(9)国民が参加する議会(国会)を開くことを要求した運動。		
(10) 伊藤博文	(11) ウ		

2			
(1) 帝国主義	(2)ノルマントン号事件	② あ 井上馨	い 欧化
う 大隈重信	え 陸奥宗光	お 領事裁判権	
(3)① 朝鮮の支配をめぐる日本と清が対立したから。			
(3)② 下関条約	③ 三国干渉	③ 記号 イ	
(4)①ポーツマス条約	② 与謝野晶子		
③多くの死者を出し、多額の軍備費を費やしたが、ポーツマス条約では賠償金がもらえなかったから。			

3			
(1)あ 火薬庫	いオーストリア	うサラエボ事件	(2) ア
(3)ベルサイユ条約	(4)① ア	②三・一独立運動	

③ 連合国やアメリカへの工業製品の輸出が増加したから。		
(5)①ロシア革命	指導者: レーニン	③ ソビエト社会主義共和国連邦
②シベリア出兵	理由 社会主義の拡大を恐れたから。	
(6)①国際連盟	② エ	③ アメリカが国内の反対によって加盟していなかったから

4		
(1)憲法に基づく政治を守ることをスローガンとする運動		
(2)① 吉野作造と美濃部達吉、	②【資料1】 イ	【資料2】 ウ
(3) 加藤高明	(4)①普通選挙法	治安維持法
②納税による制限が廃止され、満25歳以上の全ての男子に選挙権が与えられたから。		

5			
(1)①ムッソリーニ	②関東大震災	③ 金融	④ 柳条湖事件
⑤ヒトラー	⑥盧溝橋事件	⑦国家総動員法	(2)考え 全体主義
体制 ファシズム	(3)ニューディール政策		
②積極的に公共事業をおこすことで、失業者を助けるため。			
③植民地などとの関係を密接にし、貿易を拡大する一方、他国の商品に対する関税を高くして閉め出す政策			
(4)①犬養毅	②政党政治がとだえて、軍部の力が強まっていった。		
(5) ア	(6)抗日民族統一戦線	(7)大政翼賛会	

1		2		3		4	
/23	/8	/12	/4	/11	/10	/7	/4
5							
/15	/6						

点